



ĐỖ ĐỨC THÁI (Tổng Chủ biên) - ĐỖ TIẾN ĐẠT (Chủ biên)  
NGUYỄN HOÀI ANH - TRẦN THUY NGÀ - NGUYỄN THỊ THANH SƠN

# Toán 2

TẬP MỘT



NHÀ XUẤT BẢN ĐẠI HỌC SƯ PHẠM

ĐỖ ĐỨC THÁI (Tổng Chủ biên) – ĐỖ TIẾN ĐẠT (Chủ biên)  
NGUYỄN HOÀI ANH – TRẦN THUY NGÀ – NGUYỄN THỊ THANH SƠN

# Toán 2

*(Đã được Bộ trưởng Bộ Giáo dục và Đào tạo  
phê duyệt sử dụng trong cơ sở giáo dục phổ thông  
tại Quyết định số 799/QĐ-BGDĐT ngày 09/12/2021)*

TẬP MỘT

Cánh Diều

NHÀ XUẤT BẢN ĐẠI HỌC SƯ PHẠM

## KÍ HIỆU DÙNG TRONG SÁCH

Số ?

Tìm số thích hợp thay cho dấu ? trong ô ?

$\square \wedge \square$  ?

Tìm dấu (>, <, =) thích hợp thay cho dấu ? trong ô ?



Bài tập luyện tập, thực hành



Bài tập vận dụng

\* Em giữ gìn sách cẩn thận, không viết vào sách để sử dụng được lâu dài.



Các em học sinh lớp 2 yêu quý!

Sau một năm học sách **Toán 1**, các em đã lớn lên và thêm bao hiểu biết. Năm học này, chúng ta lại vui mừng gặp nhau qua cuốn sách **Toán 2**.

Sách **Toán 2** (gồm tập 1 và tập 2) tiếp tục giúp các em học về số và phép tính, hình học và đo lường; làm quen với ứng dụng của toán học trong cuộc sống. Từ đó, các em sẽ có thêm niềm tin: Học Toán rất có ích cho cuộc sống hằng ngày.

Đồng hành cùng các em trong sách **Toán 2** còn có các bạn nhỏ dễ thương và chú voi con ngộ nghĩnh. Toàn bộ những điều trên được thể hiện qua rất nhiều hình ảnh sinh động, qua các trò chơi và hoạt động thực hành lí thú.

Chúc các em học tập thật tốt, có thêm nhiều niềm vui tuổi thơ và say mê học Toán.

Các tác giả



# 1

## ÔN TẬP LỚP 1

### PHÉP CỘNG, PHÉP TRỪ (CÓ NHỚ) TRONG PHẠM VI 20





# ÔN TẬP CÁC SỐ ĐẾN 100

1 a) Tìm số còn thiếu ở  rồi đọc Bảng các số từ 1 đến 100:

1	2	3	?	?	6	?	8	9	?
?	?	13	?	15	?	17	18	?	20
21	?	?	24	25	26	?	28	?	?
?	?	33	34	?	?	37	?	?	?
?	42	43	44	?	?	47	48	?	?
51	52	?	?	55	?	57	?	59	?
?	62	63	64	?	?	?	68	?	70
?	?	73	?	75	76	77	?	79	?
?	82	?	84	?	86	?	?	89	?
91	92	?	?	95	96	97	98	?	?



b) Trong Bảng các số từ 1 đến 100, hãy chỉ ra:

- Số bé nhất có một chữ số. Số bé nhất có hai chữ số.
- Số lớn nhất có một chữ số. Số lớn nhất có hai chữ số.

2 a)  ?

Số	Chục	Đơn vị	Viết
73	7	3	$73 = 70 + 3$
61	<input type="text" value="?"/>	<input type="text" value="?"/>	$61 = \text{?} + \text{?}$
40	<input type="text" value="?"/>	<input type="text" value="?"/>	$40 = \text{?} + \text{?}$

b) Trả lời các câu hỏi:

- Số 54 gồm mấy chục và mấy đơn vị?
- Số gồm 4 chục và 5 đơn vị là số nào?
- Số gồm 7 chục và 0 đơn vị là số nào?

**3** Câu nào đúng, câu nào sai?

a)  $43 > 41$

b)  $23 > 32$

c)  $35 < 45$

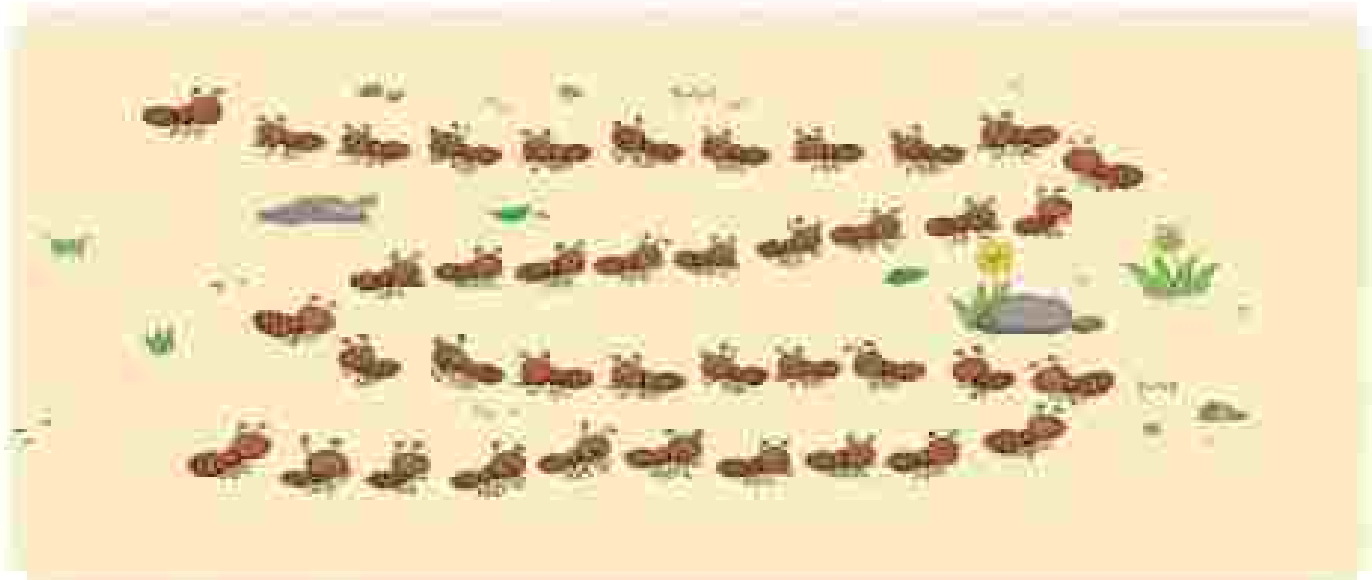
d)  $37 = 37$

**4** Ước lượng theo nhóm chục

Mẫu:



a) Em hãy ước lượng trong hình sau có khoảng bao nhiêu con kiến:



b) Em hãy đếm số con kiến ở hình trên để kiểm tra lại.

# ÔN TẬP VỀ PHÉP CỘNG, PHÉP TRỪ (KHÔNG NHỚ) TRONG PHẠM VI 100

1 Tính:

a)  $10 + 3$

$10 + 6$

$14 - 4$

$17 - 7$

$10 + 9$

$19 - 9$

b)  $13 + 5$

$11 + 6$

$19 - 4$

$18 - 5$

$12 + 3$

$3 + 12$

2 Đặt tính rồi tính:

$32 + 25$

$48 - 13$

$74 + 3$

$28 - 5$

$47 + 30$

$69 - 60$

3 Tính:

a)  $80 + 10$

$60 - 40$

$40 + 20 + 10$

$80 - 30 + 40$

$50 + 10 + 20$

$30 + 60 - 50$

b)  $7 + 3 + 4$

$10 + 2 + 1$

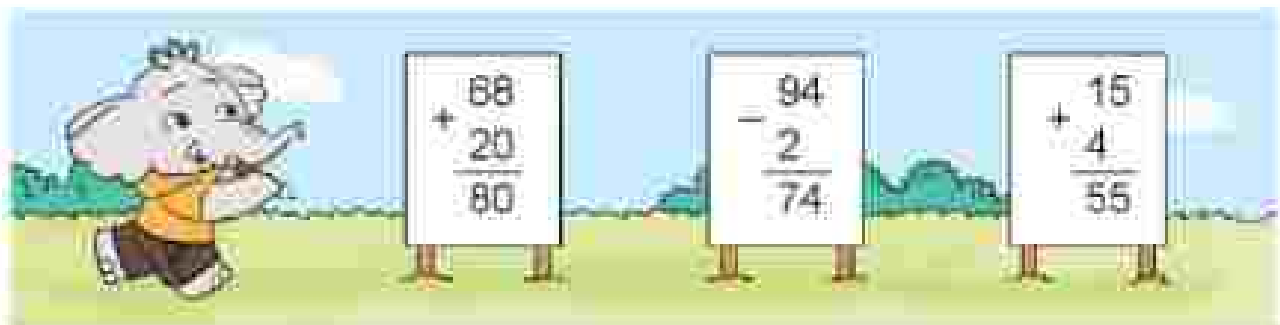
$9 + 1 - 5$

$13 - 3 - 4$

$8 + 2 - 1$

$15 - 5 + 3$

4 Tìm lỗi sai trong mỗi phép tính sau rồi sửa lại cho đúng:



The elephant character is on the left, looking at three signs. Each sign has a math problem written on it:

- Sign 1: 
$$\begin{array}{r} 68 \\ + 20 \\ \hline 80 \end{array}$$
- Sign 2: 
$$\begin{array}{r} 94 \\ - 2 \\ \hline 74 \end{array}$$
- Sign 3: 
$$\begin{array}{r} 15 \\ + 4 \\ \hline 55 \end{array}$$


- 5 Trên xe buýt có 37 người, tới điểm dừng có 11 người xuống xe. Hỏi trên xe buýt còn lại bao nhiêu người?



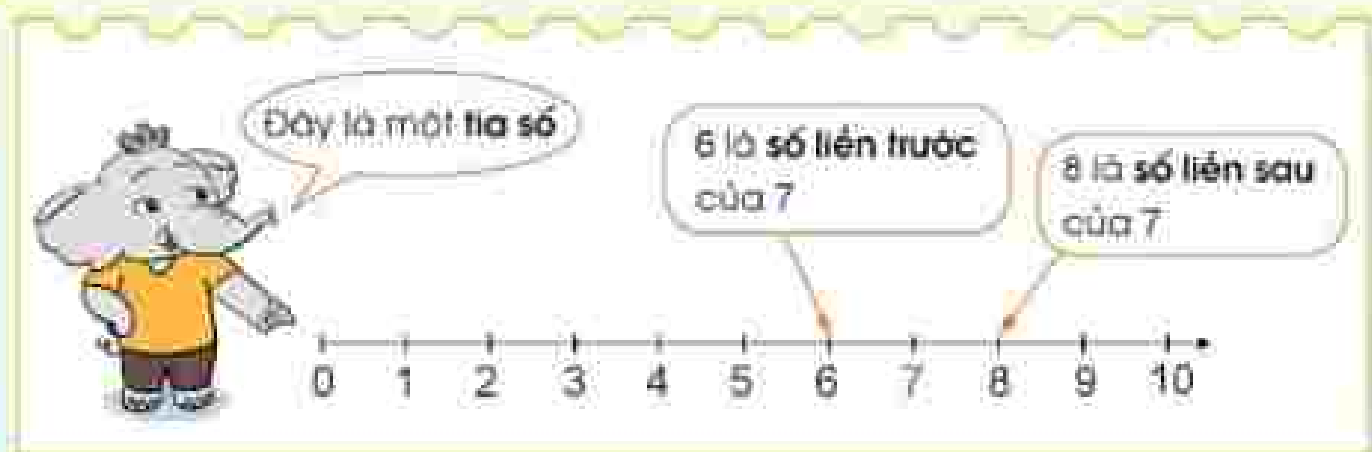
Phép tính:  $\boxed{?} - \boxed{?} = \boxed{?}$

Trả lời: Trên xe buýt còn lại  $\boxed{?}$  người.

- 6 Thực hành "Lập phép tính"



# TIA SỐ. SỐ LIÊN TRƯỚC - SỐ LIÊN SAU



1 a) Xếp các thẻ số vào vị trí thích hợp dưới mỗi vạch của tia số:



b) Trả lời các câu hỏi:

- Số liền trước của số 5 là số nào?
- Số liền sau của số 9 là số nào?

2 a) Số ?



b) Trả lời các câu hỏi:

- Số liền trước của số 16 là số nào?
- Số liền sau của số 85 là số nào?

3 Số ?

Số liền trước	Số đã cho	Số liền sau
5	6	7
29	30	?
?	68	69
?	99	?

4 Chọn dấu (>, <) thích hợp:

Trên tia số, số đứng trước bé hơn số đứng sau, số đứng sau lớn hơn số đứng trước.



88 ? 91

92 ? 90

98 ? 89

95 ? 100

5 Sắp xếp các số:



a) Theo thứ tự từ bé đến lớn.

b) Theo thứ tự từ lớn đến bé.

# ĐỀ-XI-MÉT

Hãy đo và chọn ra băng giấy dài 10 cm.



Đề-xi-mét là một đơn vị đo độ dài, viết tắt là dm.

$$1 \text{ dm} = 10 \text{ cm}$$

$$10 \text{ cm} = 1 \text{ dm}$$

1 Chọn thẻ ghi số đo thích hợp với mỗi đồ vật sau:

5 dm

12 cm

1 dm

5 cm



- 2 a) Tìm trên thước kẻ vạch ứng với 1 dm, 2 dm.  
b) Em hãy cho biết 2 dm bằng bao nhiêu xăng-ti-mét.

3 Số ?

$$1 \text{ dm} = \boxed{?} \text{ cm}$$

$$2 \text{ dm} = \boxed{?} \text{ cm}$$

$$10 \text{ cm} = \boxed{?} \text{ dm}$$

$$20 \text{ cm} = \boxed{?} \text{ dm}$$

4 Tính (theo mẫu):

Mẫu:  $12 \text{ dm} + 5 \text{ dm} = 17 \text{ dm}$

$$13 \text{ dm} + 6 \text{ dm}$$

$$10 \text{ dm} + 4 \text{ dm} - 3 \text{ dm}$$

$$27 \text{ dm} - 7 \text{ dm}$$

$$48 \text{ dm} - 8 \text{ dm} - 10 \text{ dm}$$

- 5 Thực hành: Cắt các băng giấy (hoặc sợi dây) có độ dài 1 dm, 2 dm, 3 dm. Hãy dán băng giấy 1 dm vào vở.



# SỐ HẠNG - TỔNG



$$4 + 2 = 6$$

Số hạng

Số hạng

Tổng

Chú ý:  $4 + 2$  cũng gọi là tổng.

1 Nêu số hạng, tổng trong mỗi phép tính sau:

$$35 + 2 = 37$$

$$18 + 50 = 68$$

2 Tìm tổng, biết các số hạng lần lượt là:

10 và 5

20 và 30

3 Thực hành "Lập tổng"

Mỗi bạn lấy hai thẻ số và nêu tổng lập được của hai số ghi trên hai thẻ đó.



Minh có tổng là  $3 + 5$ .

Minh có tổng là  $10 + 40$ .

# SỐ BỊ TRỪ - SỐ TRỪ - HIỆU



$$6 - 2 = 4$$

Số bị trừ      Số trừ      Hiệu

Chú ý:  $6 - 2$  cũng gọi là hiệu.

1. Nêu số bị trừ, số trừ, hiệu trong mỗi phép tính sau:

$$27 - 4 = 23$$

$$57 - 11 = 46$$

2. Tìm hiệu, biết:

a) Số bị trừ là 12, số trừ là 2.

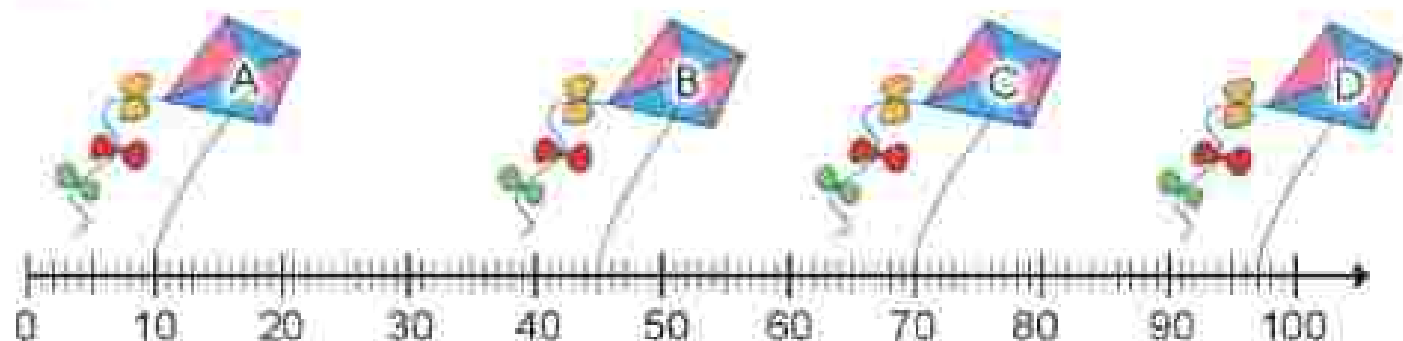
b) Số bị trừ là 60, số trừ là 20.

3. Trò chơi "Tìm bạn"



# LUYỆN TẬP CHUNG

1 Mỗi cánh diều gắn với vạch chỉ số nào trên tia số dưới đây?



2 a) Nêu số liền trước của mỗi số sau: 53, 40, 1.

b) Nêu số liền sau của mỗi số sau: 19, 73, 11.

c)  $\begin{array}{|c|} \hline \vee \\ \hline \wedge \\ \hline \equiv \\ \hline \end{array} ?$

9 ? 21

83 ? 54

93 ? 93

72 ? 75

3 a) Tìm tổng, biết các số hạng lần lượt là:

26 và 13

40 và 15

b) Tìm hiệu, biết:

- Số bị trừ là 57, số trừ là 24.

- Số bị trừ là 85, số trừ là 3.

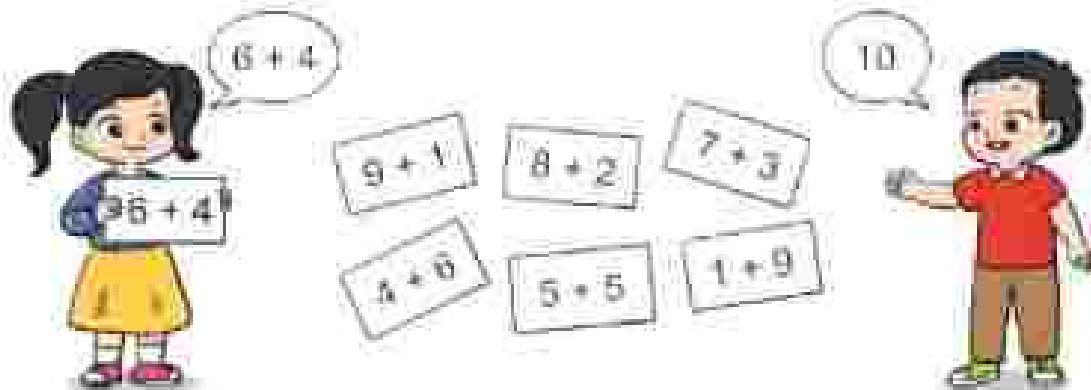
4 Một sợi dây dài 28 dm, cắt đi 18 dm. Hỏi sợi dây còn lại dài bao nhiêu đề-xi-mét?

Phép tính:  $\boxed{?} \text{ ? } \boxed{?} = \boxed{?}$

Trả lời: Sợi dây còn lại dài  $\boxed{?}$  dm.

# LUYỆN TẬP PHÉP CỘNG (KHÔNG NHỚ) TRONG PHẠM VI 20

1 a) Tìm kết quả của mỗi phép tính:



b) Số ?      $9 + \square = 10$       $8 + \square = 10$       $7 + \square = 10$

2 Tính:

$10 + 1$

$10 + 4$

$10 + 9$

$10 + 5$

$10 + 7$

$10 + 3$

3 Tính nhẩm:

$9 + 1$

$8 + 2$

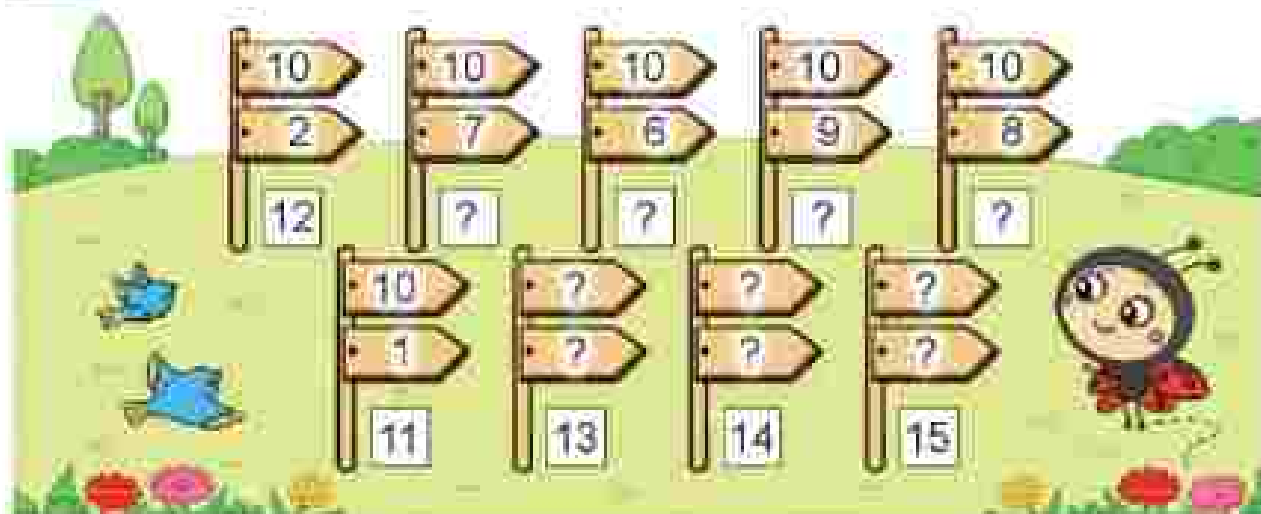
$7 + 3$

$9 + 1 + 4$

$8 + 2 + 3$

$7 + 3 + 5$

4 Số ?



# PHÉP CỘNG (CÓ NHỚ) TRONG PHẠM VI 20



$$8 + 3 = ?$$



Vậy  $8 + 3 = 11$

Đếm thêm 3  
bắt đầu từ 8



1 Tính:



$$8 + 4 = \boxed{?}$$

Đếm thêm 4  
bắt đầu từ 8



$$9 + 3 = \boxed{?}$$

Đếm thêm 3  
bắt đầu từ 9

2 Tính:



$$9 + 2 = \boxed{?}$$



$$9 + 4 = \boxed{?}$$



$$7 + 4 = \boxed{?}$$



$$8 + 5 = \boxed{?}$$

3 Tính:

$$7 + 5$$

$$8 + 6$$

$$6 + 5$$

$$7 + 6$$

$$9 + 6$$

$$6 + 6$$

4 Một đoàn tàu có 9 toa. Trong dịp nghỉ lễ, người ta nối thêm 5 toa nữa. Hỏi sau khi nối, đoàn tàu đó có tất cả bao nhiêu toa?



Phép tính:  $\boxed{?} + \boxed{?} = \boxed{?}$

Trả lời: Sau khi nối, đoàn tàu đó có tất cả  $\boxed{?}$  toa.

# PHÉP CỘNG (CÓ NHỚ) TRONG PHẠM VI 20 (tiếp theo)



Có tất cả bao nhiêu quả na?

$$9 + 4 = ?$$




9 cộng 1 bằng 10  
10 cộng 3 bằng 13

Vậy  $9 + 4 = 13$



1 Tính:



$$9 + 3 = \boxed{?}$$

9 cộng  $\boxed{?}$  bằng 10  
10 cộng  $\boxed{?}$  bằng  $\boxed{?}$



$$8 + 3 = \boxed{?}$$

8 cộng  $\boxed{?}$  bằng 10  
10 cộng  $\boxed{?}$  bằng  $\boxed{?}$

2 Tính:




$$9 + 2 = \boxed{?}$$



$$9 + 5 = \boxed{?}$$



$$8 + 4 = \boxed{?}$$



$$8 + 5 = \boxed{?}$$

3 Tính:

$$9 + 7$$

$$9 + 9$$

$$8 + 7$$

$$9 + 8$$

$$8 + 8$$

$$8 + 9$$

4 Có 9 chậu hoa, các bạn mang đến 3 chậu hoa nữa. Hỏi có tất cả bao nhiêu chậu hoa?



Phép tính:  $\boxed{?} + \boxed{?} = \boxed{?}$

Trả lời: Có tất cả  $\boxed{?}$  chậu hoa.

# LUYỆN TẬP

1 Chọn kết quả đúng với mỗi phép tính:

 $9 + 6$			 $8 + 3$
 $9 + 5$			 $9 + 9$
 $8 + 9$			 $5 + 8$
 $8 + 8$			 $3 + 9$

2 Tính nhẩm:

$9 + 1 + 7$

$8 + 2 + 4$

$6 + 4 + 5$

$9 + 8$

$8 + 6$

$6 + 9$

3 a) Tính:

$9 + 2$

$8 + 4$

$7 + 4$

$2 + 9$

$4 + 8$

$4 + 7$

b) Nhận xét kết quả các phép tính trong từng cột.

- 4 Nhà bạn Duyên nuôi 6 con thỏ trắng và 7 con thỏ nâu. Hỏi nhà bạn Duyên nuôi tất cả bao nhiêu con thỏ?



Phép tính:  $\boxed{?} + \boxed{?} = \boxed{?}$

Trả lời: Nhà bạn Duyên nuôi tất cả  $\boxed{?}$  con thỏ.

- 5 Thảo luận cách tính của Dung và Đức. Em thích cách nào hơn?

$$9 + 5 = ?$$

$$\begin{aligned} 9 + 5 &= 9 + 1 + 4 \\ &= 10 + 4 \\ &= 14 \end{aligned}$$



Dung

$$\begin{array}{ccccccc} 9 & 10 & 11 & 12 & 13 & 14 \\ \curvearrowright & \curvearrowright & \curvearrowright & \curvearrowright & \curvearrowright & & \\ \text{Vậy } 9 + 5 & = & 14 & & & & \end{array}$$

Đếm thêm 5  
bắt đầu từ 9.



Đức

# BẢNG CỘNG (CÓ NHỚ) TRONG PHẠM VI 20



$9 + 2$									
$9 + 3$	$8 + 3$								
$9 + 4$	$8 + 4$	$7 + 4$							
$9 + 5$	$8 + 5$	$7 + 5$	$6 + 5$						
$9 + 6$	$8 + 6$	$7 + 6$	$6 + 6$	$5 + 6$					
$9 + 7$	$8 + 7$	$7 + 7$	$6 + 7$	$5 + 7$	$4 + 7$				
$9 + 8$	$8 + 8$	$7 + 8$	$6 + 8$	$5 + 8$	$4 + 8$	$3 + 8$			
$9 + 9$	$8 + 9$	$7 + 9$	$6 + 9$	$5 + 9$	$4 + 9$	$3 + 9$	$2 + 9$		

## 1 Tính nhẩm:

a)  $6 + 5$

$9 + 4$

$7 + 9$

$8 + 8$

$7 + 7$

$6 + 9$

b)  $8 + 3$

$7 + 6$

$9 + 5$

$3 + 8$

$6 + 7$

$5 + 9$

2 Xem Bảng cộng, nêu các phép tính còn thiếu:

11		12		13	
$9 + 2$	$4 + 7$	$6 + 4$	$6 + 6$	$9 + 4$	?
$3 + 8$	$6 + 5$	$3 + 9$	?	?	$6 + 7$
$7 + 4$	$8 + 3$	?	$9 + 3$	?	?
?	?	?			

14		15		16	
$9 + 5$	?	$7 + 8$	?	?	?
?	?	?	?	?	

3 Vườn nhà Tùng có 7 cây na và 9 cây xoài. Hỏi vườn nhà Tùng có tất cả bao nhiêu cây na và cây xoài?



Phép tính:  $\boxed{?} + \boxed{?} = \boxed{?}$

Trả lời: Vườn nhà Tùng có tất cả  $\boxed{?}$  cây na và cây xoài.

# LUYỆN TẬP

## 1 Tính nhẩm:

a)  $9 + 2$

$5 + 7$

$5 + 9$

$9 + 3$

$6 + 8$

$5 + 8$

b)  $9 + 6$

$5 + 6$


$8 + 7$

$6 + 9$

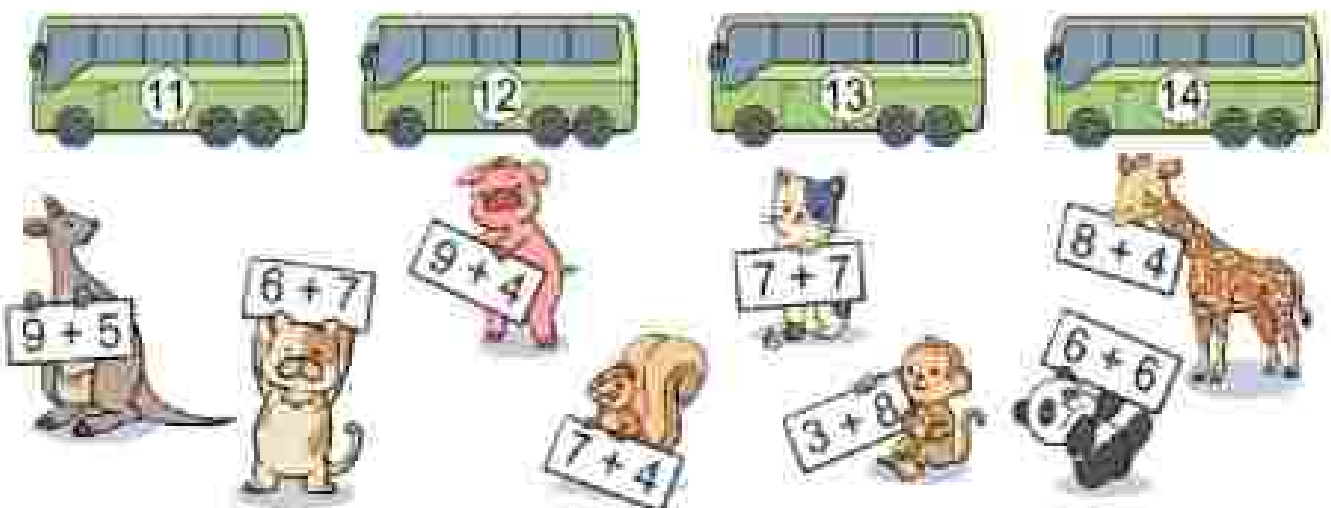
$6 + 5$

$7 + 8$

## 2 Số ?



## 3 a) Chọn kết quả đúng với mỗi phép tính:



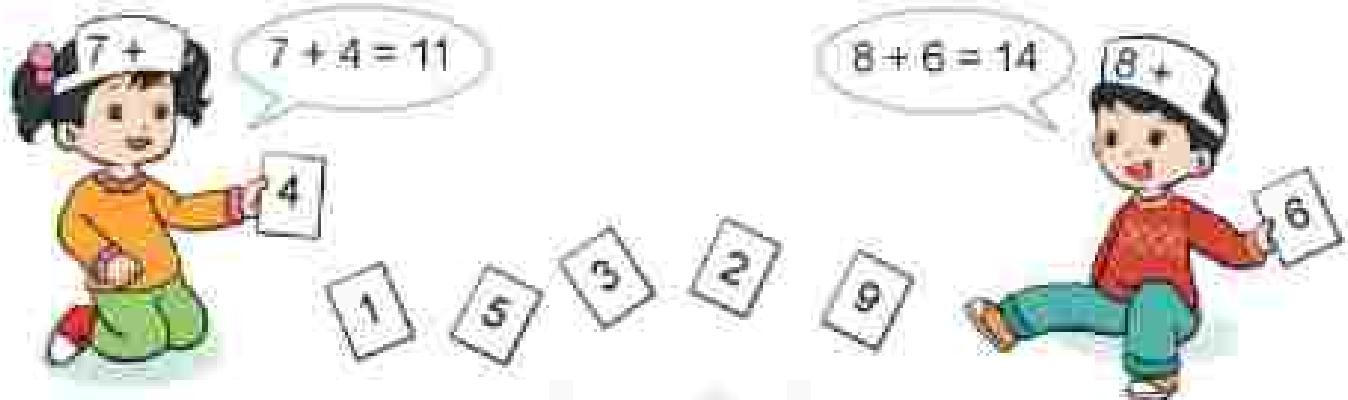
b) Tính:  $9 + 5 + 1$

$7 + 2 + 6$

$5 + 3 + 4$

$8 + 4 + 5$

4 Chọn số hạng trong các số đã cho và tính tổng:



5 Sau chuyến học tập trải nghiệm, tổ Một vẽ được 6 bức tranh, tổ Hai vẽ được 7 bức tranh. Hỏi hai tổ vẽ được tất cả bao nhiêu bức tranh?



Phép tính:  $\boxed{?} + \boxed{?} = \boxed{?}$

Trả lời: Hai tổ vẽ được tất cả  $\boxed{?}$  bức tranh.

# LUYỆN TẬP CHUNG

1 Tính nhẩm:

$6 + 6$

$7 + 7$

$8 + 8$

$6 + 7$

$7 + 8$

$8 + 9$

2 Tính:

$4 + 4 + 3$

$7 + 1 + 8$

$3 + 3 + 6$

$5 + 4 + 5$

3



$9 + 7 \text{ (7)} 9 + 9$

$7 + 6 \text{ (7)} 7 + 8$

$8 + 8 \text{ (7)} 8 + 5$

$5 + 6 \text{ (7)} 7 + 4$

4

Hàng trên có 8 bạn, hàng dưới có 8 bạn. Hỏi hai hàng có tất cả bao nhiêu bạn?

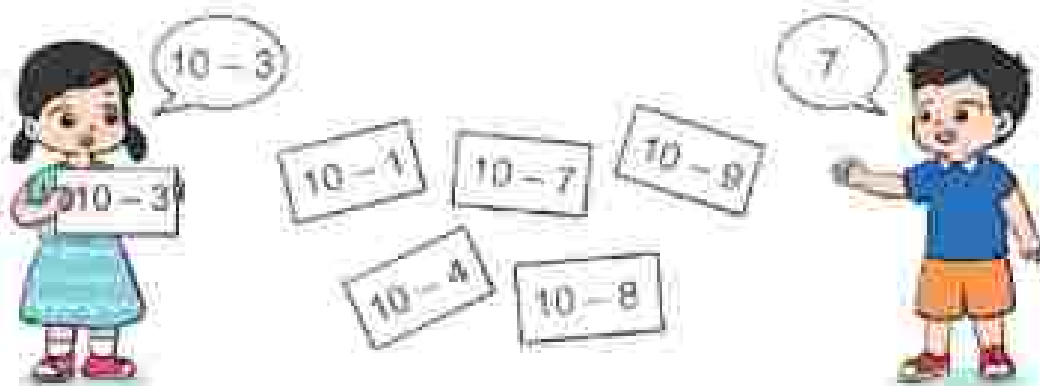


Phép tính:  $\boxed{?} \text{ (7)} \boxed{?} = \boxed{?}$

Trả lời: Hai hàng có tất cả  $\boxed{?}$  bạn.

# LUYỆN TẬP PHÉP TRỪ (KHÔNG NHỚ) TRONG PHẠM VI 20

1 Tìm kết quả của mỗi phép tính:



2 a) Tính:

$12 - 2$

$16 - 6$

$15 - 5$

$17 - 7$

$18 - 8$

$19 - 9$

b) Số ?  $10 = 15 - ?$   $10 = 19 - ?$   $10 = 17 - ?$

3 Tính nhẩm:

$10 - 2$

$10 - 5$

$10 - 6$

$14 - 4 - 2$


$13 - 3 - 5$

$11 - 1 - 6$

4 Trò chơi "Viết các phép trừ có kết quả bằng 10"



# PHÉP TRỪ (CÓ NHỚ) TRONG PHẠM VI 20



$$12 - 3 = ?$$




Vậy  $12 - 3 = 9$

Đếm bớt 3  
bắt đầu từ 12



1 **Tính:**



$$11 - 2 = \boxed{?}$$

Đếm bớt 2  
bắt đầu từ 11



$$13 - 4 = \boxed{?}$$

Đếm bớt 4  
bắt đầu từ 13

2 Tính:



$11 - 3 = \boxed{?}$



$12 - 4 = \boxed{?}$



$13 - 5 = \boxed{?}$



$14 - 7 = \boxed{?}$

3 Tính:

$11 - 5$

$12 - 5$

$14 - 5$

$11 - 6$

$12 - 6$

$13 - 6$

4 Giải bóng đá nhi đồng năm nay có 11 đội tham gia. Vào tới trận chung kết chỉ còn 2 đội. Hỏi để vào đến trận chung kết có mấy đội đã bị loại?




Phép tính:  $\boxed{?} \text{ (circled) } \boxed{?} = \boxed{?}$

Trả lời: Để vào đến trận chung kết có  $\boxed{?}$  đội đã bị loại.

# PHÉP TRỪ (CÓ NHỚ) TRONG PHẠM VI 20 (tiếp theo)



$$13 - 4 = ?$$



Vậy  $13 - 4 = 9$

13 trừ 3 bằng 10  
10 trừ 1 bằng 9



## 1 Tính:



$$11 - 2 = \boxed{?}$$

11 trừ  $\boxed{?}$  bằng 10

10 trừ  $\boxed{?}$  bằng  $\boxed{?}$



$$12 - 4 = \boxed{?}$$


12 trừ  $\boxed{?}$  bằng 10

10 trừ  $\boxed{?}$  bằng  $\boxed{?}$


2 Tính:



$$12 - 7 = \boxed{?}$$



$$14 - 5 = \boxed{?}$$



$$11 - 4 = \boxed{?}$$



$$11 - 7 = \boxed{?}$$

3 Tính:

$13 - 5$

$14 - 6$

$15 - 8$

$13 - 7$

$14 - 9$

$15 - 6$

4 Cửa hàng có 11 bộ đồ chơi lắp ghép hình, cửa hàng bán đi 3 bộ. Hỏi cửa hàng còn lại bao nhiêu bộ đồ chơi lắp ghép hình?



Phép tính:  $\boxed{?} \text{ ( ? ) } \boxed{?} = \boxed{?}$

Trả lời: Cửa hàng còn lại  $\boxed{?}$  bộ đồ chơi lắp ghép hình.

# LUYỆN TẬP

1 Chọn kết quả đúng với mỗi phép tính:



$11 - 2$



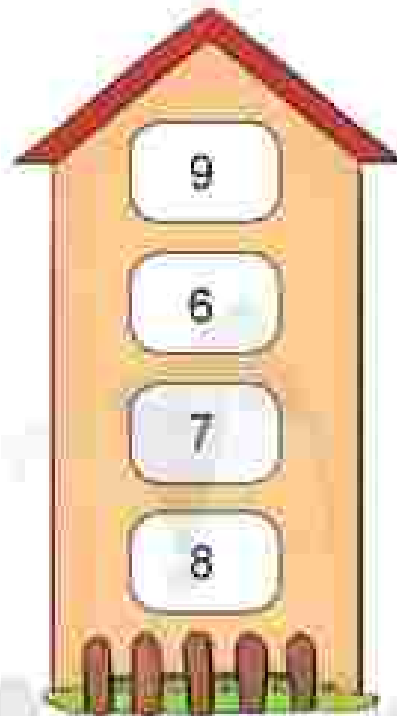
$14 - 6$



$12 - 6$



$11 - 4$



$12 - 4$

$13 - 6$



$11 - 5$



$12 - 3$

2 Tính nhẩm:

$15 - 5 - 2$

$15 - 7$

$16 - 6 - 2$

$16 - 8$

$18 - 8 - 1$

$18 - 9$

3 Tính:

$9 + 4$

$13 - 4$

$8 + 5$

$13 - 5$

$7 + 7$

$14 - 7$

- 4 Mẹ mua về 15 quả trứng, chị Trang lấy 8 quả trứng để làm bánh. Hỏi mẹ còn lại bao nhiêu quả trứng?



Phép tính:  $\boxed{?} - \boxed{?} = \boxed{?}$

Trả lời: Mẹ còn lại  $\boxed{?}$  quả trứng.

- 5 Thảo luận cách tính của Hà và Ngọc. Em thích cách nào hơn?

$$13 - 5 = ?$$

$$13 - 3 = 10$$

$$10 - 2 = 8$$

$$\text{Vậy } 13 - 5 = 8$$

8 9 10 11 12 13

$$\text{Vậy } 13 - 5 = 8$$

Đếm bớt 5  
bắt đầu từ 13



Hà



Ngọc

# BẢNG TRỪ (CÓ NHỚ) TRONG PHẠM VI 20

$11 - 2$								
$11 - 3$	$12 - 3$							
$11 - 4$	$12 - 4$	$13 - 4$						
$11 - 5$	$12 - 5$	$13 - 5$	$14 - 5$					
$11 - 6$	$12 - 6$	$13 - 6$	$14 - 6$	$15 - 6$				
$11 - 7$	$12 - 7$	$13 - 7$	$14 - 7$	$15 - 7$	$16 - 7$			
$11 - 8$	$12 - 8$	$13 - 8$	$14 - 8$	$15 - 8$	$16 - 8$	$17 - 8$		
$11 - 9$	$12 - 9$	$13 - 9$	$14 - 9$	$15 - 9$	$16 - 9$	$17 - 9$	$18 - 9$	



## 1 Tính nhẩm:

$14 - 5$

$15 - 6$

$11 - 4$

$11 - 3$

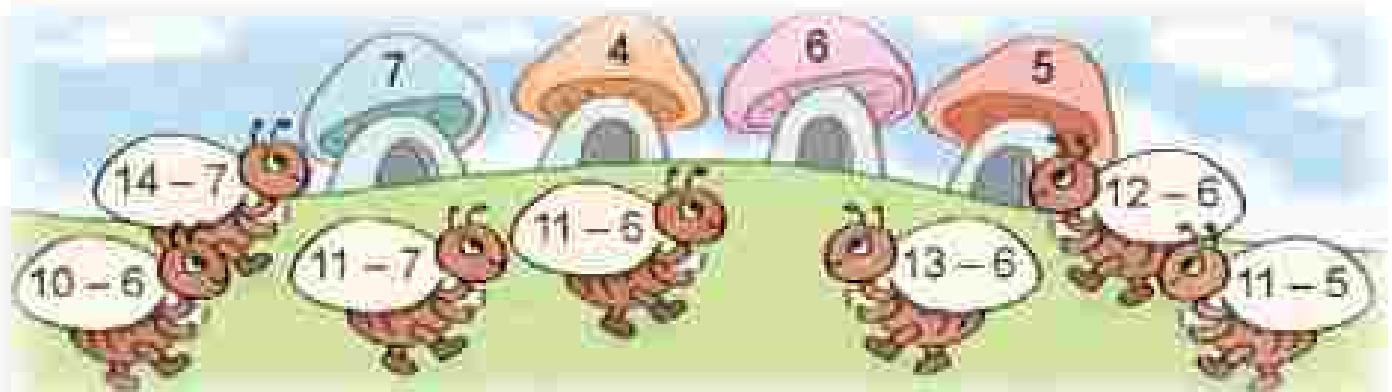
$13 - 7$

$16 - 8$

$18 - 9$

$14 - 8$

## 2 Chọn kết quả đúng với mỗi phép tính:



3 Xem Bảng trừ, nêu các phép tính còn thiếu:

9	
$11 - 2$	$13 - 4$
$15 - 6$	$16 - 7$
$12 - 3$	$17 - 8$
?	?

8	
$12 - 4$	$13 - 5$
$15 - 7$	?
?	$17 - 9$
?	

7	
$13 - 6$	?
?	$14 - 7$
?	?

6	
$13 - 7$	?
?	?
?	

5	
$14 - 9$	?
?	?

4	
$11 - 7$	?
?	

4 Giàn gốc nhà bà Nga có tất cả 13 quả, trong đó có 7 quả đã chín. Hỏi giàn gốc nhà bà Nga còn mấy quả chưa chín?



Phép tính:  $\boxed{?} - \boxed{?} = \boxed{?}$

Trả lời: Giàn gốc nhà bà Nga còn  $\boxed{?}$  quả chưa chín.

# LUYỆN TẬP

## 1 Tính nhẩm:

$8 + 3$

$11 - 8$

$11 - 3$

$5 + 7$

$12 - 5$

$12 - 7$

$3 + 9$

$12 - 3$

$12 - 9$

## 2 Số ?

6

$12 - 6$

$13 - \square$

$14 - \square$

7

$11 - 4$

$12 - \square$

8

$11 - 3$

$12 - \square$

$\square - \square$


9

$14 - 5$

$15 - \square$

$\square - \square$

## 3 a) Chọn kết quả đúng với mỗi phép tính:



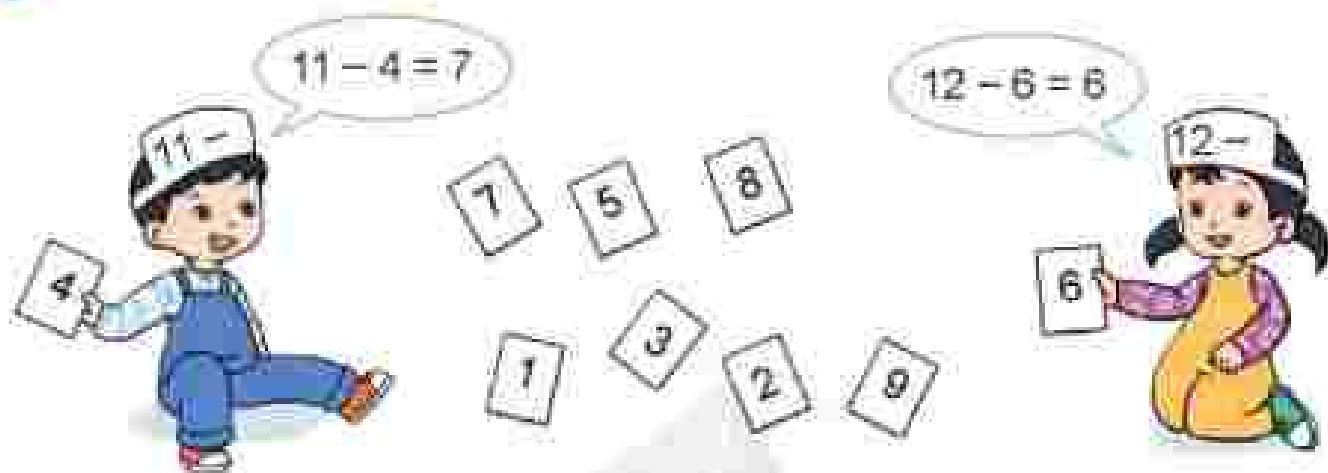
b) Tính:  $11 - 3 - 1$

$17 - 2 - 6$

$15 - 4 - 2$

$14 - 7 - 5$

4 Chọn số trừ trong các số đã cho và tính hiệu:



5 Bác Sứa có 15 giỏ phong lan, bác đã bán đi 7 giỏ. Hỏi bác Sứa còn lại bao nhiêu giỏ phong lan?



Phép tính:  $\boxed{?} - \boxed{?} = \boxed{?}$

Trả lời: Bác Sứa còn lại  $\boxed{?}$  giỏ phong lan.

# LUYỆN TẬP CHUNG

1 Tính:

$4 + 7$   
 $11 - 8$     $5 + 9$   
 $7 + 9$     $13 - 8$   
 $12 - 8$     $7 + 5$   
 $5 + 6$     $15 - 9$   
 $14 - 7$     $4 + 8$   
 $6 + 8$     $12 - 4$

2 Tính nhẩm:

- $9 + 6$
- $6 + 9$
- $15 - 9$
- $15 - 6$

- $9 + 8$
- $8 + 9$
- $17 - 8$
- $17 - 9$

- $8 + 5$
- $5 + 8$
- $13 - 5$
- $13 - 8$

3 Nêu các phép tính thích hợp (theo mẫu):

**House 1 (Red roof):** Roof: 12, 5, 7. Walls:  $5 + 7 = 12$ ,  $7 + 5 = 12$ ,  $12 - 7 = 5$ ,  $12 - 5 = 7$ .  
**House 2 (Pink roof):** Roof: 14, 8, 6. Walls:  $? + ? = ?$ ,  $? + ? = ?$ ,  $? - ? = ?$ ,  $? - ? = ?$ .  
**House 3 (Green roof):** Roof: 9, 7, 16. Walls:  $? + ? = ?$ ,  $? + ? = ?$ ,  $? - ? = ?$ ,  $? - ? = ?$ .

4 Tính:

$9 + 1 + 8$

$11 - 1 - 3$

$7 + 3 - 4$

$8 + 2 + 5$

$14 - 4 - 1$

$15 - 5 + 7$

$4 + 6 + 7$

$19 - 9 - 6$

$13 - 3 + 8$

5

?

$7 + 5 \text{ ( ? ) } 11$

$9 + 6 \text{ ( ? ) } 5 + 9$

$6 + 7 \text{ ( ? ) } 7 + 6$

$13 - 4 \text{ ( ? ) } 10$

$15 - 8 \text{ ( ? ) } 5 + 8$

$14 - 9 \text{ ( ? ) } 5 + 9$

6 Hiền làm được 12 chiếc chong chóng. Hiền cho các em 9 chiếc. Hỏi Hiền còn lại mấy chiếc chong chóng?



Phép tính:  $\boxed{?} \text{ ( ? ) } \boxed{?} = \boxed{?}$

Trả lời: Hiền còn lại  $\boxed{?}$  chiếc chong chóng.

# BÀI TOÁN LIÊN QUAN ĐẾN PHÉP CỘNG, PHÉP TRỪ

## BÀI TOÁN LIÊN QUAN ĐẾN PHÉP CỘNG

An có 5 bông hoa, Bình có 4 bông hoa. Hỏi hai bạn có tất cả bao nhiêu bông hoa?



An có: 5 bông hoa  
Bình có: 4 bông hoa  
Có tất cả:  bông hoa

*Bài giải*

Hai bạn có tất cả số bông hoa là:

$$5 + 4 = 9 \text{ (bông)}$$

Đáp số: 9 bông hoa.

**1** Long có 10 chiếc bút màu, Bảo có 9 chiếc bút màu. Hỏi hai bạn có tất cả bao nhiêu chiếc bút màu?



Long có: 10 chiếc bút màu  
Bảo có: 9 chiếc bút màu  
Có tất cả:  chiếc bút màu

*Bài giải*

Hai bạn có tất cả số chiếc bút màu là:

$$\boxed{?} \text{ (Long)} + \boxed{?} \text{ (Bảo)} = \boxed{?} \text{ (chiếc)}$$

Đáp số:  chiếc bút màu.

**2** Trong phòng máy có 9 bộ máy tính, người ta mang thêm vào 3 bộ nữa. Hỏi trong phòng đó có tất cả bao nhiêu bộ máy tính?



Có:  bộ máy tính  
Thêm:  bộ máy tính  
Có tất cả:  bộ máy tính

*Bài giải*

Trong phòng đó có tất cả số bộ máy tính là:

$$\boxed{?} \text{ (Ban đầu)} + \boxed{?} \text{ (Thêm)} = \boxed{?} \text{ (bộ)}$$

Đáp số:  bộ máy tính.

## BÀI TOÁN LIÊN QUAN ĐẾN PHÉP TRỪ

Trong hộp có 10 chiếc bút màu, Linh lấy đi 3 chiếc. Hỏi trong hộp còn lại mấy chiếc bút màu?

Có: 10 chiếc bút màu  
Lấy đi: 3 chiếc bút màu  
Còn lại:  chiếc bút màu



*Bài giải*

Trong hộp còn lại số chiếc bút màu là:

$$10 - 3 = 7 \text{ (chiếc)}$$

Đáp số: 7 chiếc bút màu.

3 Nam có 16 quyển truyện, Nam cho Hoa 5 quyển. Hỏi Nam còn lại bao nhiêu quyển truyện?

Có: 16 quyển truyện  
Cho: 5 quyển truyện  
Còn lại:  quyển truyện



*Bài giải*

Nam còn lại số quyển truyện là:

$$\boxed{?} - \boxed{?} = \boxed{?} \text{ (quyển)}$$

Đáp số:  quyển truyện.

4 Trên sân bay có 11 chiếc máy bay, sau đó có 2 chiếc bay đi. Hỏi trên sân bay còn lại bao nhiêu chiếc máy bay?

Có:  chiếc máy bay  
Bay đi:  chiếc máy bay  
Còn lại:  chiếc máy bay



*Bài giải*

Trên sân bay còn lại số chiếc máy bay là:

$$\boxed{?} - \boxed{?} = \boxed{?} \text{ (chiếc)}$$

Đáp số:  chiếc máy bay.

# LUYỆN TẬP

- 1 Lúc đầu trên sân có 6 bạn đang chơi, sau đó có thêm 5 bạn đi đến. Hỏi trên sân có tất cả bao nhiêu bạn?



*Bài giải*

Trên sân có tất cả số bạn là:

$$\boxed{?} \text{ (6)} \boxed{?} \text{ (5)} = \boxed{?} \text{ (bạn)}$$

Đáp số:  $\boxed{?}$  bạn.

- 2 Cường có 12 quả bóng, Cường cho em 5 quả. Hỏi Cường còn lại bao nhiêu quả bóng?

*Bài giải*

Cường còn lại số quả bóng là:

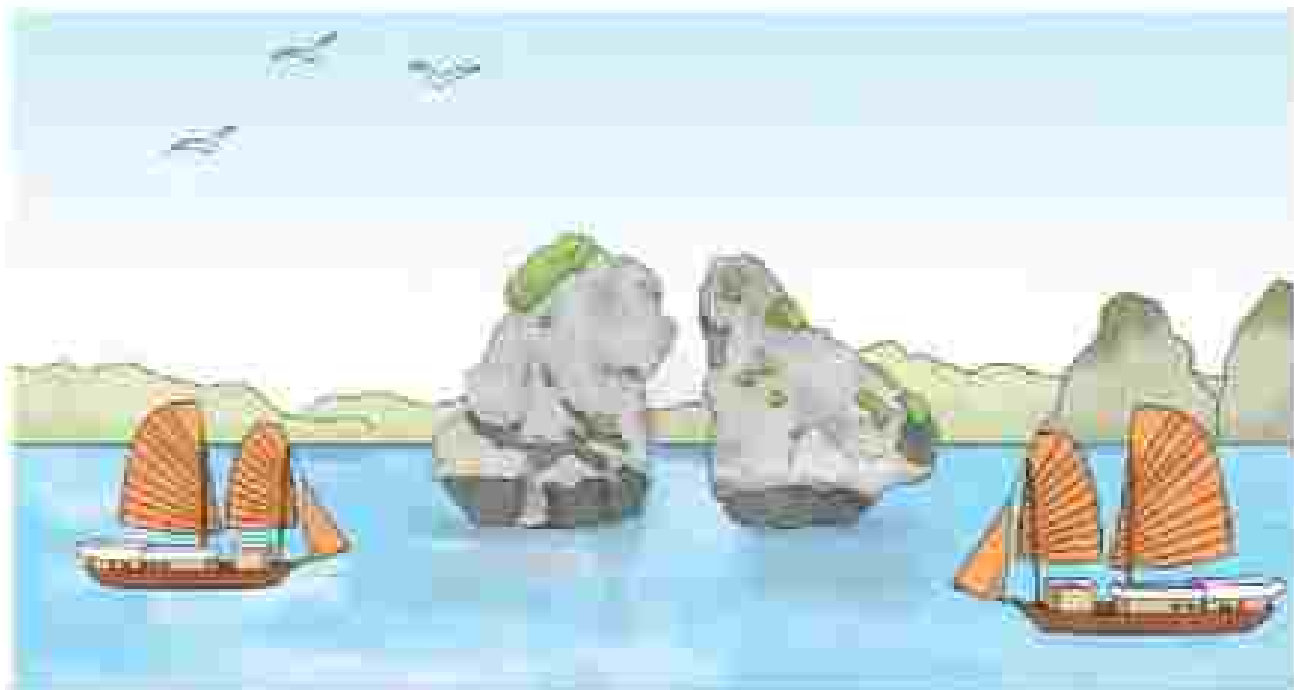
$$\boxed{?} \text{ (12)} \boxed{?} \text{ (5)} = \boxed{?} \text{ (quả)}$$

Đáp số:  $\boxed{?}$  quả bóng.



Giải các bài toán sau:

- 3 Tham dự cuộc thi viết về chủ đề "Em yêu biển đảo Việt Nam", đội Hải Âu có 25 bài dự thi, đội Chim én có 30 bài dự thi. Hỏi hai đội có tất cả bao nhiêu bài dự thi?



- 4 Lớp 2B trồng 12 khóm hoa, trong đó có 3 khóm đã nở hoa. Hỏi còn bao nhiêu khóm chưa nở hoa?



# BÀI TOÁN LIÊN QUAN ĐẾN PHÉP CỘNG, PHÉP TRỪ (tiếp theo)



BẢNG THI ĐUA	
Tổ Một	● ● ● ● ● ●
Tổ Hai	● ● ● ● ● ●
Tổ Ba	● ● ● ● ● ●
Tổ Bốn	● ● ● ● ● ●



## BÀI TOÁN VỀ NHIỀU HƠN

Tổ Một có 6 bông hoa, tổ Ba có nhiều hơn tổ Một 2 bông. Hỏi tổ Ba có mấy bông hoa?

Tổ Một: ● ● ● ● ● ●

Tổ Ba :  ● ●

Tổ Một có: 6 bông hoa

Tổ Ba nhiều hơn tổ Một: 2 bông hoa

Tổ Ba có:  7 bông hoa



*Bài giải*

Tổ Ba có số bông hoa là:

$$6 + 2 = 8 \text{ (bông)}$$

Đáp số: 8 bông hoa.

- 1 Mai gấp được 7 chiếc thuyền giấy, Toàn gấp được nhiều hơn Mai 5 chiếc. Hỏi Toàn gấp được bao nhiêu chiếc thuyền giấy?

Mai gấp: 7 chiếc thuyền  
 Toàn gấp nhiều hơn Mai: 5 chiếc thuyền  
 Toàn gấp:  chiếc thuyền



*Bài giải*

Toàn gấp được số chiếc thuyền giấy là:

$$\boxed{?} \text{ (xanh)} + \boxed{?} = \boxed{?} \text{ (chiếc)}$$

Đáp số:  chiếc thuyền giấy.

**2** Sợi dây lụa màu xanh dài 35 cm, sợi dây lụa màu đỏ dài hơn sợi dây lụa màu xanh 20 cm. Hỏi sợi dây lụa màu đỏ dài bao nhiêu xăng-ti-mét?

Dây xanh dài:  cm  
 Dây đỏ dài hơn dây xanh:  cm  
 Dây đỏ dài:  cm



*Bài giải*

Sợi dây lụa màu đỏ dài số xăng-ti-mét là:

$$\boxed{?} \text{ (xanh)} + \boxed{?} = \boxed{?} \text{ (cm)}$$

Đáp số:  cm.

### BÀI TOÁN VỀ ÍT HƠN

Tổ Hai có 5 bông hoa, tổ Bốn có ít hơn tổ Hai 1 bông. Hỏi tổ Bốn có mấy bông hoa?

Tổ Hai: 

Tổ Bốn:

Tổ Hai có: 5 bông hoa  
 Tổ Bốn ít hơn tổ Hai: 1 bông hoa  
 Tổ Bốn có:  bông hoa



*Bài giải*


Tổ Bốn có số bông hoa là:

$$5 - 1 = 4 \text{ (bông)}$$

Đáp số: 4 bông hoa.

3 Ngân thứ nhất có 9 quyển sách, ngân thứ hai ít hơn ngân thứ nhất 4 quyển. Hỏi ngân thứ hai có mấy quyển sách?

Ngân thứ nhất có: 9 quyển sách  
Ngân thứ hai ít hơn ngân thứ nhất: 4 quyển sách  
Ngân thứ hai có:  quyển sách



*Bài giải*

Ngân thứ hai có số quyển sách là:

$$\boxed{?} - \boxed{?} = \boxed{?} \text{ (quyển)}$$

Đáp số:  quyển sách.

4 Năm nay anh Nam 16 tuổi, Dũng ít hơn anh Nam 9 tuổi. Hỏi năm nay Dũng bao nhiêu tuổi?

Anh Nam:  tuổi  
Dũng ít hơn anh Nam:  tuổi  
Dũng:  tuổi



*Bài giải*

Năm nay Dũng có số tuổi là:

$$\boxed{?} - \boxed{?} = \boxed{?} \text{ (tuổi)}$$

Đáp số:  tuổi.

## LUYỆN TẬP

- 1 Phương có 12 con thú nhồi bông. Tú có nhiều hơn Phương 3 con. Hỏi Tú có mấy con thú nhồi bông?

*Bài giải*

Tú có số con thú nhồi bông là:

$$\boxed{?} \text{ (12)} \boxed{?} \text{ (3)} = \boxed{?} \text{ (con)}$$

Đáp số:  $\boxed{?}$  con thú nhồi bông.



- 2 Huyền cắt được 17 bông hoa. Thủy cắt được ít hơn Huyền 9 bông. Hỏi Thủy cắt được bao nhiêu bông hoa?

*Bài giải*

Thủy cắt được số bông hoa là:

$$\boxed{?} \text{ (17)} \boxed{?} \text{ (9)} = \boxed{?} \text{ (bông)}$$

Đáp số:  $\boxed{?}$  bông hoa.



**Giải các bài toán sau:**

- 3 Minh có 24 bưu ảnh. Tuấn có nhiều hơn Minh 10 bưu ảnh. Hỏi Tuấn có bao nhiêu bưu ảnh?
- 4 Trong phòng tập thể dục có 11 chiếc máy chạy bộ, số ghế nằm đậy tạ ít hơn số máy chạy bộ là 4 chiếc ghế. Hỏi phòng tập thể dục có bao nhiêu chiếc ghế nằm đậy tạ?

## LUYỆN TẬP CHUNG

- 1 Một rạp xiếc thú có 8 diễn viên thú. người ta vừa huấn luyện thêm được 5 diễn viên thú nữa. Hỏi rạp xiếc đó có tất cả bao nhiêu diễn viên thú?



- 2 Để sơn lại các phòng học, bác thợ sơn đã dùng 9 thùng sơn trắng và 8 thùng sơn vàng. Hỏi bác thợ sơn đã dùng tất cả bao nhiêu thùng sơn?



- 3 Buổi sáng siêu thị bán được 30 thùng táo, buổi chiều siêu thị bán được nhiều hơn buổi sáng 10 thùng. Hỏi buổi chiều siêu thị bán được bao nhiêu thùng táo?



- 4 Mẹ mua cho Phú 12 chiếc bút chì, Phú đã dùng hết 6 chiếc. Hỏi Phú còn lại bao nhiêu chiếc bút chì?



- 5 Lớp 2C có 28 bạn, sau khi được bác sĩ kiểm tra mắt thì có 5 bạn bị cận thị. Hỏi lớp 2C có bao nhiêu bạn không bị cận thị?



- 6 Trong cùng một toà nhà, gia đình Khánh ở tầng 15, gia đình Vân ở vị trí thấp hơn gia đình Khánh 4 tầng. Hỏi gia đình Vân ở tầng bao nhiêu?



# EM ÔN LẠI NHỮNG GÌ ĐÃ HỌC

## 1 Tính nhẩm:

$9 + 4$

$4 + 9$

$13 - 9$

$13 - 4$

$8 + 6$

$6 + 8$

$14 - 8$

$14 - 6$

$7 + 9$

$9 + 7$

$16 - 7$

$16 - 9$

## 2 Chọn kết quả đúng với mỗi phép tính:



## 3 Số ?

a)

Số hạng	44	53	3	6
Số hạng	25	5	8	9
Tổng	?	?	?	?

b)

Số bị trừ	68	77	15	12
Số trừ	52	6	7	8
Hiệu	?	?	?	?

4 Tính:

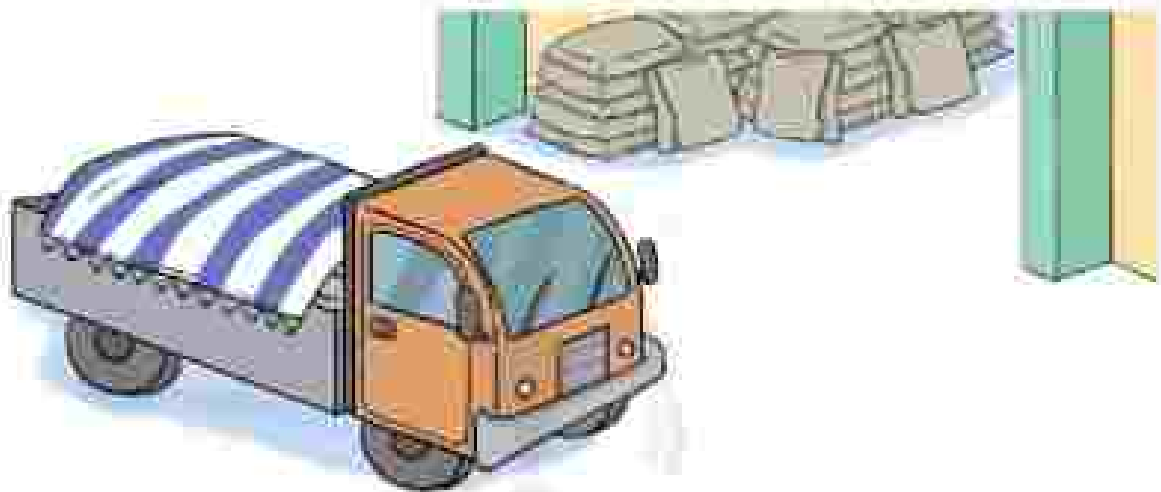
$$9 - 3 + 6$$

$$35 + 10 - 30$$

$$8 + 6 - 7$$

$$87 - 7 + 14$$

5 Cô 98 bao xi măng cần được chở đến công trường, xe tải đã chở được 34 bao. Hỏi còn bao nhiêu bao xi măng chưa được chở?



6 a) Năm nay bà 67 tuổi, mẹ ít hơn bà 30 tuổi. Hỏi năm nay mẹ bao nhiêu tuổi?



b) Năm nay anh Hải 10 tuổi, bố nhiều hơn anh Hải 32 tuổi. Hỏi năm nay bố bao nhiêu tuổi?



**HỌC VUI  
VUI HỌC**



# EM VUI HỌC TOÁN

- 1 Xếp các thẻ số thích hợp dưới mỗi vạch của tia số rồi thảo luận cách sử dụng tia số trong học toán.



Chúng ta có thể sử dụng tia số để so sánh hai số.

Chúng ta có thể sử dụng tia số để cộng trừ.



- 2 Thảo luận nhóm để thiết kế một trò chơi về tính nhẩm trong phạm vi 20 rồi chọn ra trò chơi thú vị nhất.

3 a) Hãy ước lượng độ dài của một số đồ vật theo đơn vị xăng-ti-mét.



b) Hãy dùng thước có vạch chia xăng-ti-mét để đo và kiểm tra lại độ dài của các vật được ước lượng ở câu a.



# 2

## PHÉP CỘNG, PHÉP TRỪ (CÓ NHỚ) TRONG PHẠM VI 100





MUỐI  
1kg


ĐƯỜNG

GẠO  
1kg

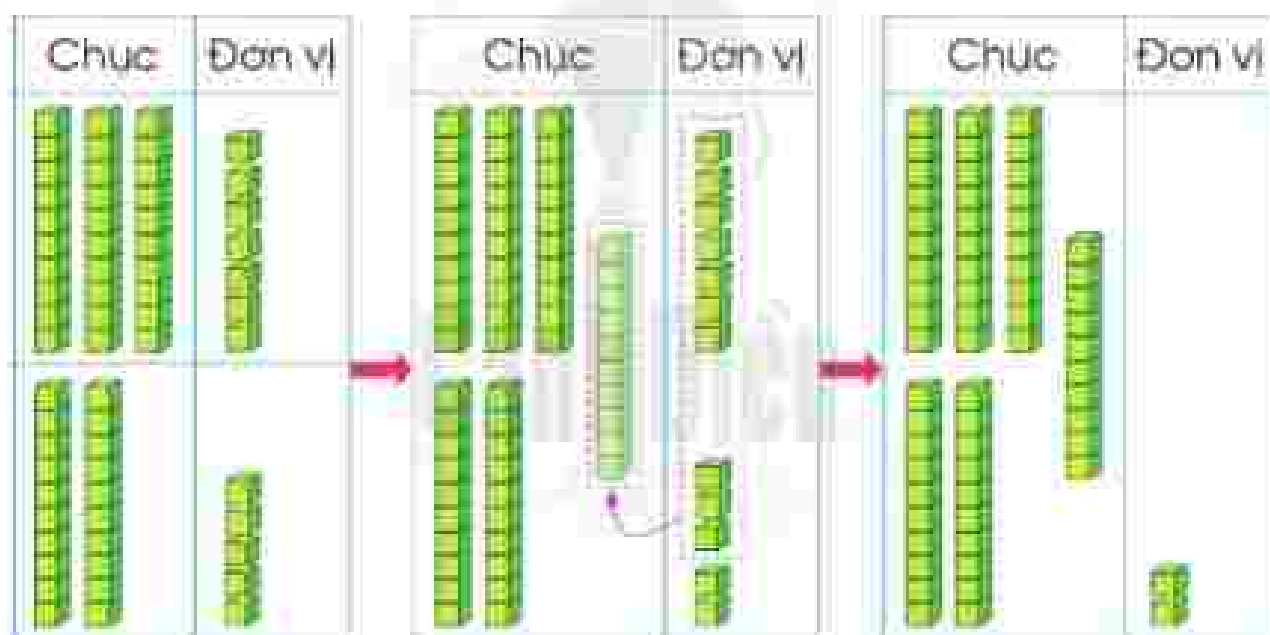
3kg

Mua 5kg  
Tặng 1kg

# PHÉP CỘNG (CÓ NHỚ) TRONG PHẠM VI 100



Tính  $37 + 25 = ?$



Ta tính theo cột dọc như sau:

$$\begin{array}{r} 37 \\ + 25 \\ \hline \end{array}$$



$$\begin{array}{r} 37 \\ + 25 \\ \hline 2 \end{array}$$



$$\begin{array}{r} 37 \\ + 25 \\ \hline 62 \end{array}$$

• Đặt tính

• 7 cộng 5 bằng 12, viết 2, nhớ 1

• 3 cộng 2 bằng 5, thêm 1 bằng 6, viết 6

Vậy  $37 + 25 = 62$

1 Tính:

$$\begin{array}{r} 32 \\ + 29 \\ \hline \boxed{?} \end{array}$$

$$\begin{array}{r} 15 \\ + 38 \\ \hline \boxed{?} \end{array}$$

$$\begin{array}{r} 36 \\ + 47 \\ \hline \boxed{?} \end{array}$$

$$\begin{array}{r} 67 \\ + 17 \\ \hline \boxed{?} \end{array}$$

2 Đặt tính rồi tính:

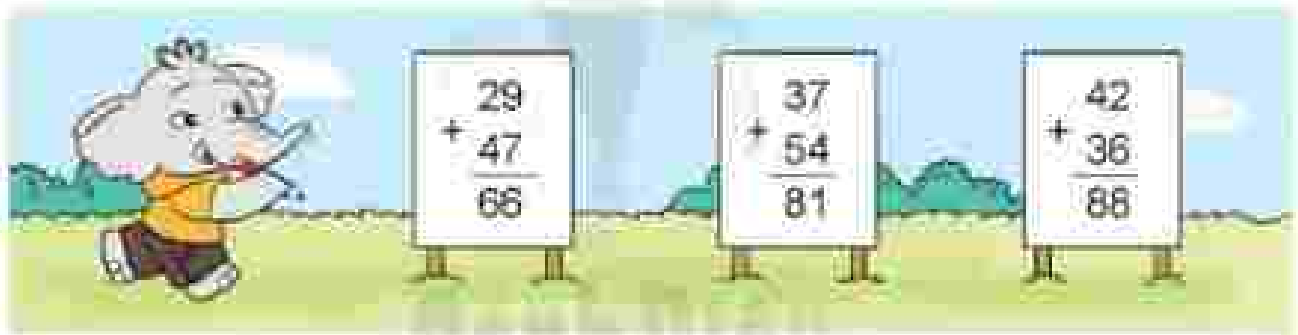
$$19 + 43$$

$$47 + 14$$

$$58 + 26$$

$$66 + 25$$

3 Tìm lỗi sai trong mỗi phép tính sau rồi sửa lại cho đúng:



4 Một trang trại có 28 con dê đen và 14 con dê trắng. Hỏi trang trại đó có tất cả bao nhiêu con dê?



# PHÉP CỘNG (CÓ NHỚ) TRONG PHẠM VI 100 (tiếp theo)



Tính  $47 + 5 = ?$

Ta tính theo cột dọc như sau:


$$\begin{array}{r} 47 \\ + 5 \\ \hline \end{array}$$

• Đặt tính



$$\begin{array}{r} 47 \\ + 5 \\ \hline 2 \end{array}$$

• 7 cộng 5 bằng 12,  
viết 2, nhớ 1



$$\begin{array}{r} 47 \\ + 5 \\ \hline 52 \end{array}$$

• 4 thêm 1 bằng 5,  
viết 5

Vậy  $47 + 5 = 52$

**1** Tính:

$$\begin{array}{r} 25 \\ + 6 \\ \hline \square \\ \square \end{array}$$

$$\begin{array}{r} 58 \\ + 4 \\ \hline \square \\ \square \end{array}$$

$$\begin{array}{r} 63 \\ + 8 \\ \hline \square \\ \square \end{array}$$

$$\begin{array}{r} 77 \\ + 7 \\ \hline \square \\ \square \end{array}$$

2 Đặt tính rồi tính:

$$37 + 4$$

$$29 + 9$$

$$46 + 5$$

$$66 + 7$$

$$89 + 6$$

$$53 + 8$$

3 Tìm chữ số bị chú ong che khuất trong mỗi phép tính sau:


$$\begin{array}{r} 36 \\ + \quad 7 \\ \hline \quad 3 \end{array}$$


$$\begin{array}{r} 7 \quad \text{[bee]} \\ + \quad 2 \\ \hline 78 \end{array}$$


$$\begin{array}{r} \quad \text{[bee]} \quad 6 \\ + \quad 5 \\ \hline 21 \end{array}$$

4 Nhi bắt xa được 87 cm, Khôi bắt xa hơn Nhi 5 cm. Hỏi Khôi bắt xa được bao nhiêu xăng-ti-mét?



# LUYỆN TẬP

## 1 Tính:

$$\begin{array}{r} \text{a)} \quad 37 \\ + 28 \\ \hline \boxed{?} \end{array}$$

$$\begin{array}{r} 18 \\ + 75 \\ \hline \boxed{?} \end{array}$$

$$\begin{array}{r} 62 \\ + 28 \\ \hline \boxed{?} \end{array}$$

$$\begin{array}{r} 23 \\ + 47 \\ \hline \boxed{?} \end{array}$$

$$\begin{array}{r} \text{b)} \quad 78 \\ + 6 \\ \hline \boxed{?} \end{array}$$

$$\begin{array}{r} 19 \\ + 3 \\ \hline \boxed{?} \end{array}$$

$$\begin{array}{r} 51 \\ + 9 \\ \hline \boxed{?} \end{array}$$

$$\begin{array}{r} 36 \\ + 4 \\ \hline \boxed{?} \end{array}$$

## 2 Đặt tính rồi tính:

$$\text{a)} \quad 25 + 39$$

$$45 + 46$$

$$64 + 26$$

$$75 + 15$$

$$\text{b)} \quad 17 + 7$$

$$89 + 2$$

$$58 + 2$$

$$67 + 3$$

## 3 Chọn kết quả đúng với mỗi phép tính:



$$45 + 5$$



$$\begin{array}{r} 23 \\ + 17 \\ \hline \end{array}$$



$$\begin{array}{r} 22 \\ + 68 \\ \hline \end{array}$$



$$\begin{array}{r} 71 \\ + 9 \\ \hline \end{array}$$



$$\begin{array}{r} 24 \\ + 6 \\ \hline \end{array}$$



$$58 + 12$$



$$40$$



$$90$$



$$50$$



$$30$$



$$56 + 4$$



$$40$$



$$70$$



$$20$$



$$80$$



$$60$$



$$17 + 3$$

4 a) Tính:

$23 + 9 + 40$

$51 + 19 + 10$

b)  $\begin{array}{|c|} \hline \text{II} \\ \hline \text{IV} \\ \hline \text{V} \\ \hline \end{array} ?$

$12 + 18 ? 18 + 12$

$65 + 7 ? 56 + 7$

$37 + 24 ? 37 + 42$

$75 + 4 ? 74 + 6$

5 Một chiếc tàu du lịch chở hai đoàn khách tham quan, đoàn khách thứ nhất có 35 người, đoàn khách thứ hai có 25 người. Hỏi hai đoàn khách tham quan có tất cả bao nhiêu người?



# LUYỆN TẬP (tiếp theo)

1 Đặt tính rồi tính:

$12 + 48$

$59 + 21$

$74 + 6$

$85 + 5$

2 Tính (theo mẫu):

$$\begin{array}{r} \text{Mẫu: } 72 \\ + 28 \\ \hline 100 \end{array}$$

• 2 cộng 8 bằng 10, viết 0, nhớ 1

• 7 cộng 2 bằng 9, thêm 1 bằng 10, viết 10

$$\text{Vậy } 72 + 28 = 100$$

$$\begin{array}{r} 63 \\ + 37 \\ \hline \boxed{?} \end{array}$$

$$\begin{array}{r} 81 \\ + 19 \\ \hline \boxed{?} \end{array}$$

$$\begin{array}{r} 38 \\ + 62 \\ \hline \boxed{?} \end{array}$$

$$\begin{array}{r} 45 \\ + 55 \\ \hline \boxed{?} \end{array}$$

3 a) Đặt tính rồi tính:

$64 + 36$

$79 + 21$

$52 + 48$

$34 + 66$

b) Tính nhẩm:

$60 + 40$

$20 + 80$

$10 + 90$

$30 + 70$

$40 + 60$

$80 + 20$

$90 + 10$

$70 + 30$

4) a) Đặt tính rồi tính (theo mẫu):

Mẫu:

$$\begin{array}{r} 93 \\ + 7 \\ \hline 100 \end{array}$$

• 3 cộng 7 bằng 10, viết 0, nhớ 1

• 9 thêm 1 bằng 10, viết 10

Vậy  $93 + 7 = 100$

$97 + 3$

$91 + 9$

$92 + 8$

$98 + 2$

b) Tính nhẩm:

$99 + 1$

$96 + 4$

$94 + 6$

$95 + 5$

5) Tìm các phép tính có kết quả bằng nhau:



$82 + 8$

$1 + 99$

$4 + 76$

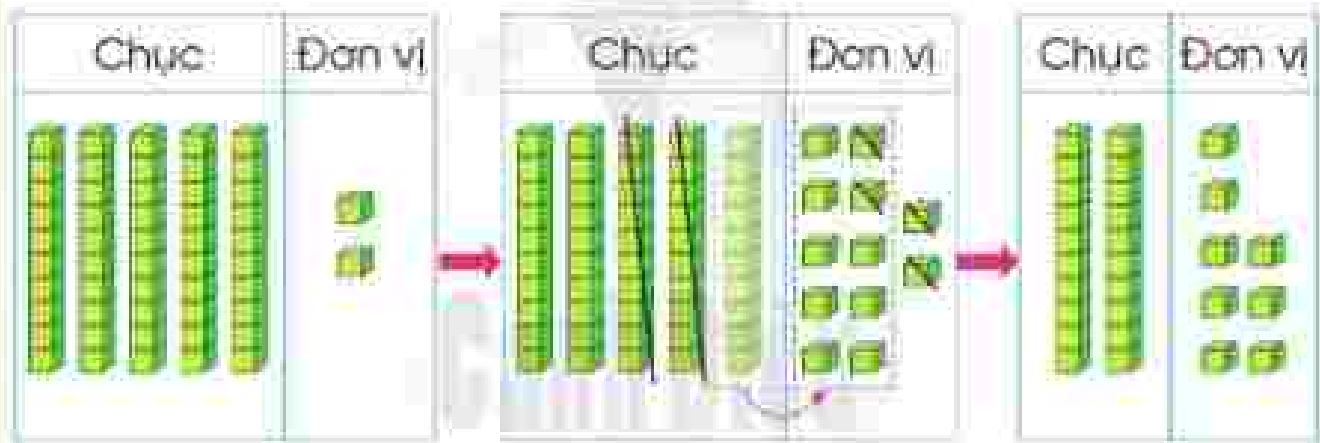
6) Ngày thứ nhất cô Liên thu hoạch được 65 cây bắp cải, ngày thứ hai cô Liên thu hoạch được nhiều hơn ngày thứ nhất 35 cây. Hỏi ngày thứ hai cô Liên thu hoạch được bao nhiêu cây bắp cải?



# PHÉP TRỪ (CÓ NHỚ) TRONG PHẠM VI 100



Tính  $52 - 24 = ?$



Ta tính theo cột dọc như sau:

$$\begin{array}{r} 52 \\ - 24 \\ \hline \end{array}$$



$$\begin{array}{r} 52 \\ - 24 \\ \hline 8 \end{array}$$



$$\begin{array}{r} 52 \\ - 24 \\ \hline 28 \end{array}$$

• Đặt tính.

• 2 không trừ được 4, lấy 12 trừ 4 bằng 8, viết 8, nhớ 1.

• 2 thêm 1 bằng 3, 5 trừ 3 bằng 2, viết 2.

Vậy  $52 - 24 = 28$ .

1 Tính:

$$\begin{array}{r} 31 \\ - 16 \\ \hline \square \\ \square \end{array}$$

$$\begin{array}{r} 42 \\ - 25 \\ \hline \square \\ \square \end{array}$$

$$\begin{array}{r} 63 \\ - 28 \\ \hline \square \\ \square \end{array}$$

$$\begin{array}{r} 44 \\ - 38 \\ \hline \square \\ \square \end{array}$$

2 Đặt tính rồi tính:

$71 - 48$

$52 - 36$

$43 - 17$

$64 - 29$

3 Số ?

$$\begin{array}{r} 3 \text{ quả} \\ - 18 \\ \hline 13 \end{array}$$

$$\begin{array}{r} 95 \\ - \text{quả} \\ \hline 57 \end{array}$$

$$\begin{array}{r} 45 \\ - 1 \text{ quả} \\ \hline 29 \end{array}$$



4 Kiên và Mai giúp bà nhặt trứng gà. Kiên nhặt được 35 quả, Mai nhặt được ít hơn Kiên 16 quả. Hỏi Mai nhặt được bao nhiêu quả trứng gà?



# PHÉP TRỪ (CÓ NHỚ) TRONG PHẠM VI 100 (tiếp theo)



Tính  $42 - 5 = ?$

Ta tính theo cột dọc như sau:

$$\begin{array}{r} 42 \\ - 5 \\ \hline \end{array}$$

• Đặt tính

$$\begin{array}{r} 42 \\ - 5 \\ \hline 7 \end{array}$$

• 2 không trừ được 5, lấy 12 trừ 5 bằng 7, viết 7, nhớ 1

$$\begin{array}{r} 42 \\ - 5 \\ \hline 37 \end{array}$$

• 4 trừ 1 bằng 3, viết 3

Vậy  $42 - 5 = 37$

1 Tính:

$$\begin{array}{r} 52 \\ - 4 \\ \hline \boxed{?} \end{array}$$

$$\begin{array}{r} 43 \\ - 7 \\ \hline \boxed{?} \end{array}$$

$$\begin{array}{r} 94 \\ - 8 \\ \hline \boxed{?} \end{array}$$

$$\begin{array}{r} 63 \\ - 6 \\ \hline \boxed{?} \end{array}$$

2 Đặt tính rồi tính:

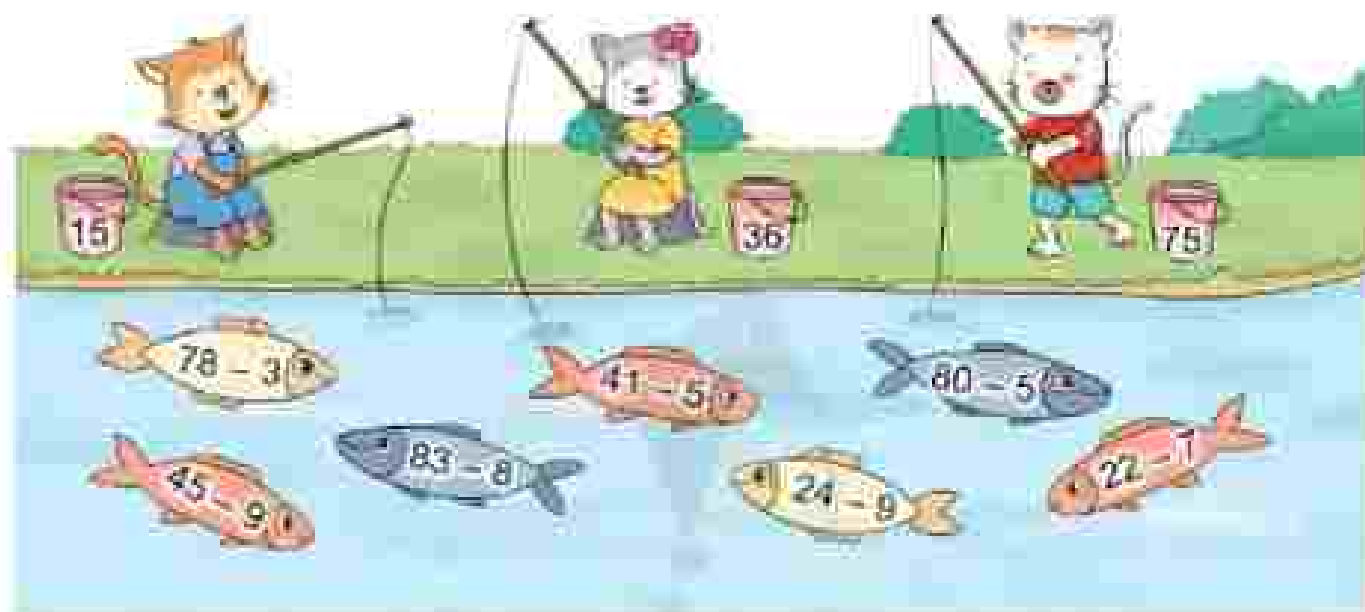
$41 - 5$

$23 - 4$

$34 - 9$

$96 - 8$

3 Chọn kết quả đúng với mỗi phép tính:



4 Buổi sáng cửa hàng bán được 31 quả bóng, buổi chiều cửa hàng bán được ít hơn buổi sáng 6 quả. Hỏi buổi chiều cửa hàng bán được bao nhiêu quả bóng?



# LUYỆN TẬP

## 1 Tính:

$$\begin{array}{r} \text{a)} \quad 33 \\ - 15 \\ \hline \boxed{?} \end{array}$$

$$\begin{array}{r} 76 \\ - 68 \\ \hline \boxed{?} \end{array}$$

$$\begin{array}{r} 70 \\ - 24 \\ \hline \boxed{?} \end{array}$$

$$\begin{array}{r} \text{b)} \quad 21 \\ - 7 \\ \hline \boxed{?} \end{array}$$

$$\begin{array}{r} 62 \\ - 3 \\ \hline \boxed{?} \end{array}$$

$$\begin{array}{r} 80 \\ - 6 \\ \hline \boxed{?} \end{array}$$

## 2 Đặt tính rồi tính:

$$\text{a)} \quad 74 - 47$$

$$93 - 88$$




$$80 - 19$$

$$\text{b)} \quad 34 - 6$$

$$44 - 9$$

$$50 - 7$$

## 3 Chọn kết quả đúng với mỗi phép tính:



4) a) Tính:

$60 - 8 - 20$

$70 - 12 + 10$

b)  $\begin{array}{|c|} \hline \text{II} \\ \hline \wedge \\ \hline \text{V} \\ \hline \end{array} ?$

$40 - 4 \text{ ( ? ) } 36$

$68 - 40 \text{ ( ? ) } 28$

$80 - 37 \text{ ( ? ) } 49$

$94 - 5 \text{ ( ? ) } 88$

5) Một bến thuyền du lịch có 64 chiếc thuyền, trong đó có 39 chiếc thuyền đã rời bến. Hỏi ở bến còn lại bao nhiêu chiếc thuyền?



6) Chọn thẻ ghi phép tính thích hợp cho mỗi hộp:



$$\begin{array}{cc} 94 - 39 & 62 - 23 \\ 72 - 13 & \\ 61 - 17 & 90 - 44 \\ 71 - 19 & \end{array}$$



# LUYỆN TẬP (tiếp theo)

1 Đặt tính rồi tính:

$$63 - 38$$

$$70 - 26$$

$$54 - 9$$

$$30 - 5$$

2 Tính (theo mẫu):

Mẫu:

$$\begin{array}{r} 100 \\ - 27 \\ \hline 73 \end{array}$$

Vậy  $100 - 27 = 73$

- 0 không trừ được 7, lấy 10 trừ 7 bằng 3, viết 3, nhớ 1
- 2 thêm 1 bằng 3, lấy 10 trừ 3 bằng 7, viết 7



$$\begin{array}{r} 100 \\ - 14 \\ \hline \boxed{?} \end{array}$$

$$\begin{array}{r} 100 \\ - 37 \\ \hline \boxed{?} \end{array}$$

$$\begin{array}{r} 100 \\ - 56 \\ \hline \boxed{?} \end{array}$$

$$\begin{array}{r} 100 \\ - 29 \\ \hline \boxed{?} \end{array}$$

3 a) Đặt tính rồi tính:

$$100 - 19$$

$$100 - 66$$

$$100 - 75$$

$$100 - 94$$

b) Tính nhẩm:

$$100 - 60$$

$$100 - 80$$

$$100 - 90$$

$$100 - 10$$

$$100 - 30$$

$$100 - 50$$

$$100 - 70$$

$$100 - 40$$

4 a) Đặt tính rồi tính (theo mẫu):

$$\begin{array}{r} \text{Mẫu:} \\ 100 \\ - \quad 5 \\ \hline 95 \end{array}$$

Vậy  $100 - 5 = 95$

- Đ không trừ được 5, lấy 10 trừ 5 bằng 5, viết 5, nhớ 1
- Lấy 10 trừ 1 bằng 9, viết 9



$100 - 7$

$100 - 8$

$100 - 4$

$100 - 9$

b) Tính nhẩm:

$100 - 1$

$100 - 6$

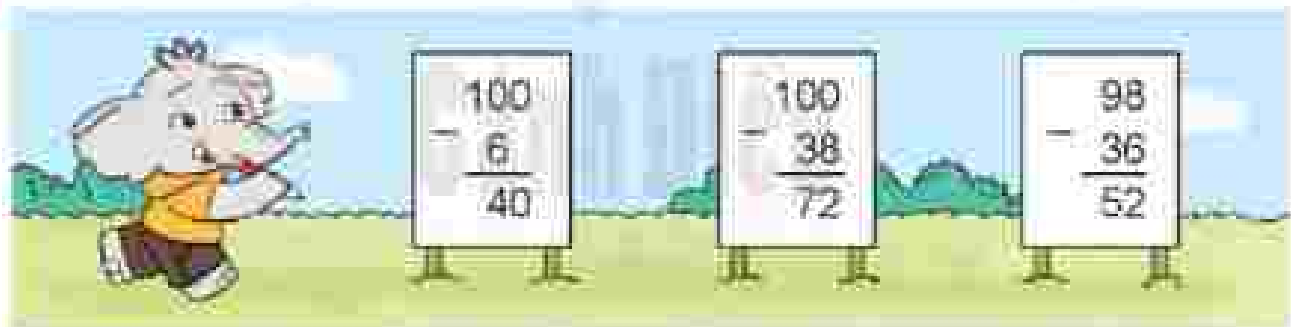
$100 - 0$

$100 - 3$

$100 - 2$

$100 - 100$

5 Tìm lỗi sai trong mỗi phép tính sau rồi sửa lại cho đúng:



6 Buổi sáng cửa hàng bán được 100 chai sữa, buổi chiều cửa hàng bán được ít hơn buổi sáng 9 chai. Hỏi buổi chiều cửa hàng bán được bao nhiêu chai sữa?



# LUYỆN TẬP CHUNG

1 Đặt tính rồi tính:

$58 + 17$

$85 - 68$

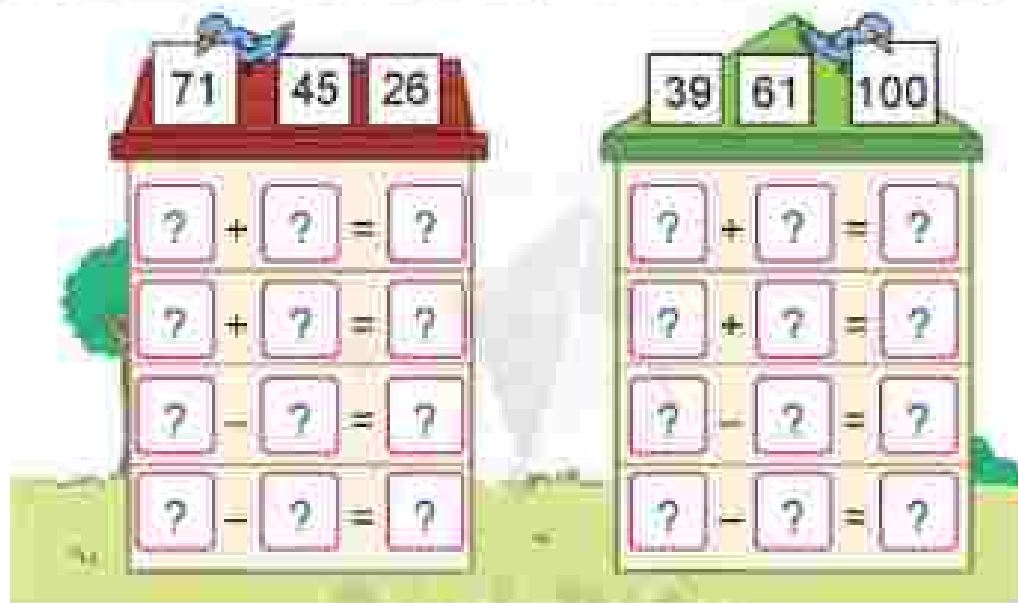
$49 + 9$

$31 + 69$

$100 - 24$

$72 - 6$

2 Xếp các thẻ số vào ô thích hợp để tạo thành các phép tính đúng:



3 a) Tính:

$20 + 30 + 50$

$100 - 8 - 10$

$11 + 22 + 66$

$100 - 30 - 40$

$44 + 6 + 50$

$73 - 14 + 20$

b) Chọn kết quả đúng với mỗi phép tính:



$25 + 6 + 20$



$100 - 40 - 6$



$68 + 5 - 20$



$27 + 27 - 2$



- 4 Sơn có 26 quả bóng, Hương có nhiều hơn Sơn 14 quả, Hỏi Hương có bao nhiêu quả bóng?



Sơn




Hương

- 5 Trò chơi "Tìm phép cộng có kết quả bằng 100"



# KI-LÔ-GAM

Quyển sách nặng hơn quyển vở.  
Quyển vở nhẹ hơn quyển sách.

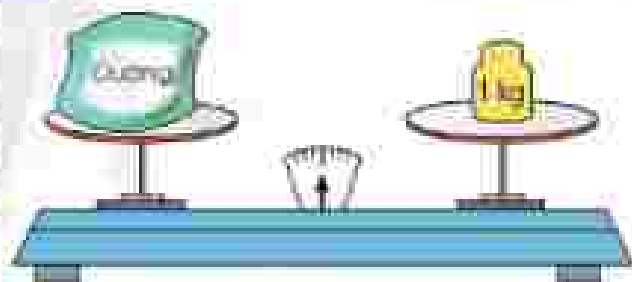


Người ta có thể dùng cân đĩa để  
so sánh sự nặng, nhẹ của đồ vật.



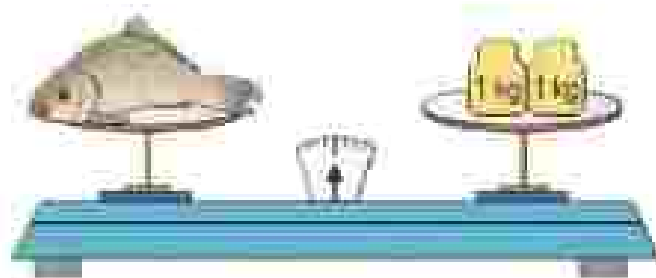
Quả cân 1 ki-lô-gam

Ki-lô-gam viết tắt là kg.



Gói đường cân nặng 1 kg.

1 Số ?



Con cá cân nặng  kg.



Quả dưa hấu cân nặng  kg.

**2** Tính (theo mẫu):

Mẫu:  $36 \text{ kg} - 9 \text{ kg} = 27 \text{ kg}$

$18 \text{ kg} + 6 \text{ kg}$

$10 \text{ kg} + 3 \text{ kg} - 5 \text{ kg}$

$24 \text{ kg} - 5 \text{ kg}$

$58 \text{ kg} - 9 \text{ kg} - 20 \text{ kg}$

**3** Thảo cân nặng 29 kg. Huy nặng hơn Thảo 3 kg. Hỏi Huy cân nặng bao nhiêu ki-lô-gam?

**4** Thực hành "Cân đồ vật"

Đề minh: cân xem nào.

Tô dự đoán ba lô cân nặng 3 kg.



**5** Kể tên một số loại cân trong thực tế cuộc sống.



# LÍT

Đồ vật nào chứa được nhiều nước nhất?



Cá 1 lít.


Lít viết tắt là *l*.




Rót nước đầy cá ta được 1 *l* nước.

1

a) Mỗi bình sau chứa bao nhiêu lít nước?



b) Rót nước từ bình vào đầy ba cá 1 *l* thì vừa hết nước trong bình. Hỏi lúc đầu bình có bao nhiêu lít nước?



2) Tính (theo mẫu):

Mẫu:  $32\text{ l} + 5\text{ l} = 37\text{ l}$

$15\text{ l} + 5\text{ l}$


$22\text{ l} - 20\text{ l}$

$7\text{ l} + 3\text{ l} + 8\text{ l}$

$37\text{ l} - 2\text{ l} - 5\text{ l}$

3) Bình xăng của một ô tô có  $52\text{ l}$  xăng, ô tô đã đi một quãng đường hết  $30\text{ l}$  xăng. Hỏi bình xăng của ô tô còn lại bao nhiêu lít xăng?

4) Chọn thẻ ghi số lít thích hợp với mỗi đồ vật:



5) Thực hành: Đổ  $1\text{ l}$  nước từ bình  $1\text{ l}$  sang các cốc như nhau.



# LUYỆN TẬP CHUNG

1 a) Số ?



Túi gạo cân nặng ? kg.



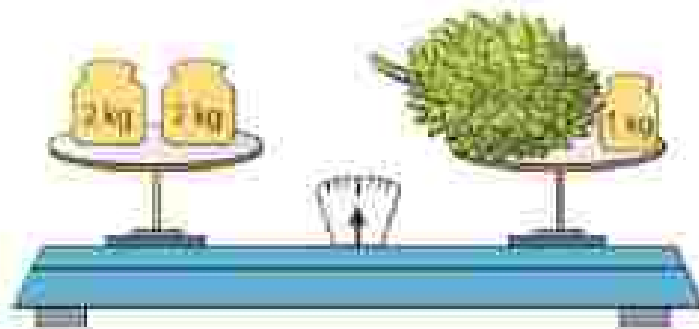
Bạn Lan cân nặng ? kg.

b) Số ?



? l

2 a) Quả sấu riêng cân nặng bao nhiêu ki-lô-gam?



b) Chiếc cân đang đựng 5 l nước. Hỏi phải đổ thêm bao nhiêu lít nước nữa thì đầy cân?



- 3 Em hãy quan sát cân và cho biết em bé cân nặng bao nhiêu ki-lô-gam. Biết mẹ em cân nặng 63 kg.




- 4 Buổi sáng cửa hàng bán được 35 l sữa, buổi chiều cửa hàng bán được nhiều hơn buổi sáng 15 l sữa. Hỏi buổi chiều cửa hàng bán được bao nhiêu lít sữa?

- 5 Kể tên một số đồ vật trong thực tế có thể chứa đầy được 1 l, 2 l, 3 l, 10 l, 20 l.




# HÌNH TỨ GIÁC



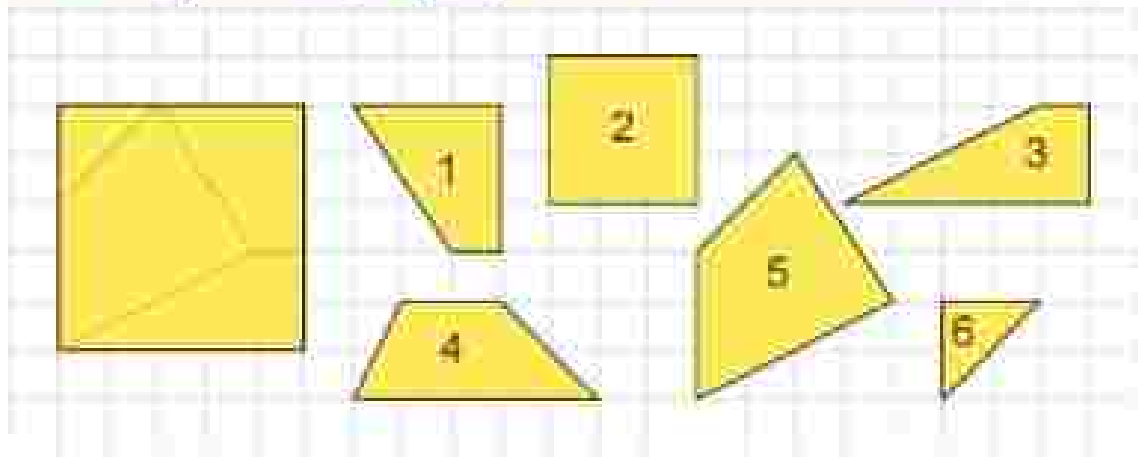
1 Trong các hình sau, hình nào là hình tứ giác?



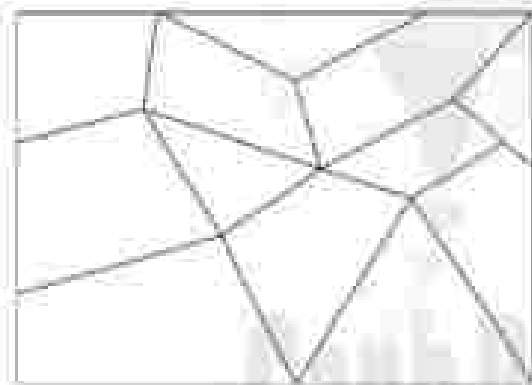
2 Chỉ ra những hình tứ giác em nhìn thấy trong mỗi hình sau:



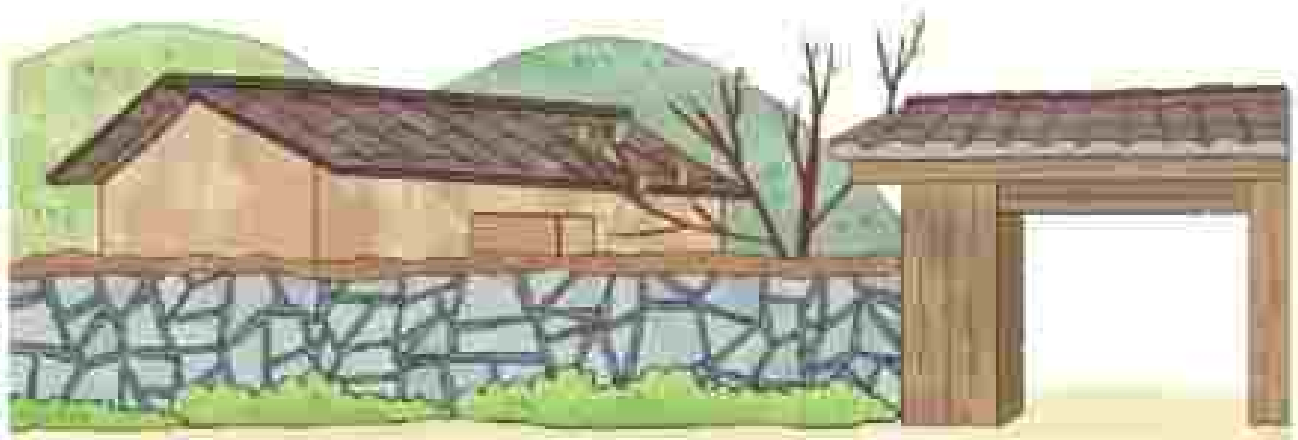
3 Hình vuông sau được ghép từ các mảnh bìa nào?



4 Bạn Voi muốn sơn màu xanh da trời vào các mảnh ghép hình tứ giác. Em hãy chỉ giúp bạn Voi những mảnh ghép hình tứ giác.



5 a) Người Mông thường sử dụng đá để làm tường rào xung quanh ngôi nhà của mình. Em có nhìn thấy hình ảnh của hình tứ giác trên bức tường đá trong bức tranh sau không?



b) Tìm một số đồ vật trong thực tế có dạng hình tứ giác.

# ĐIỂM - ĐOẠN THẲNG

A

Điểm A

B

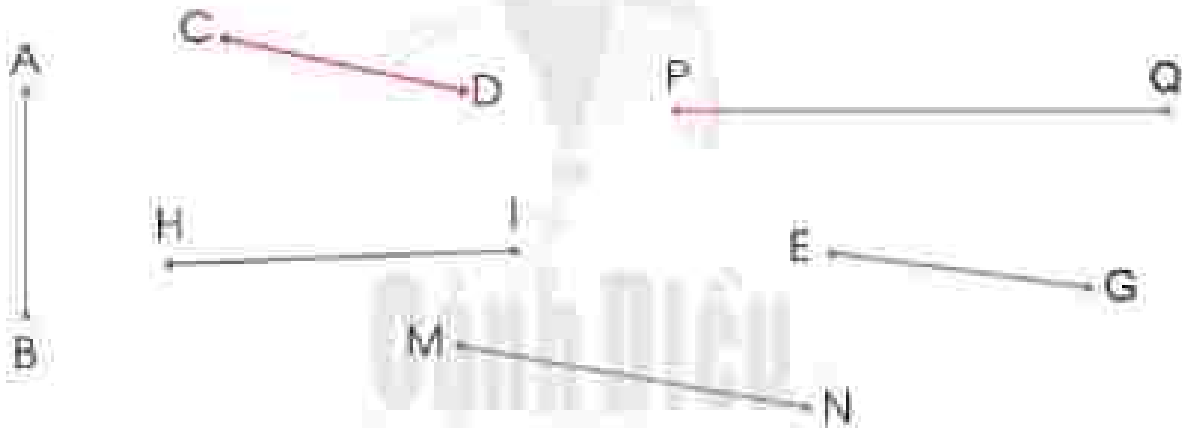
Điểm B

A

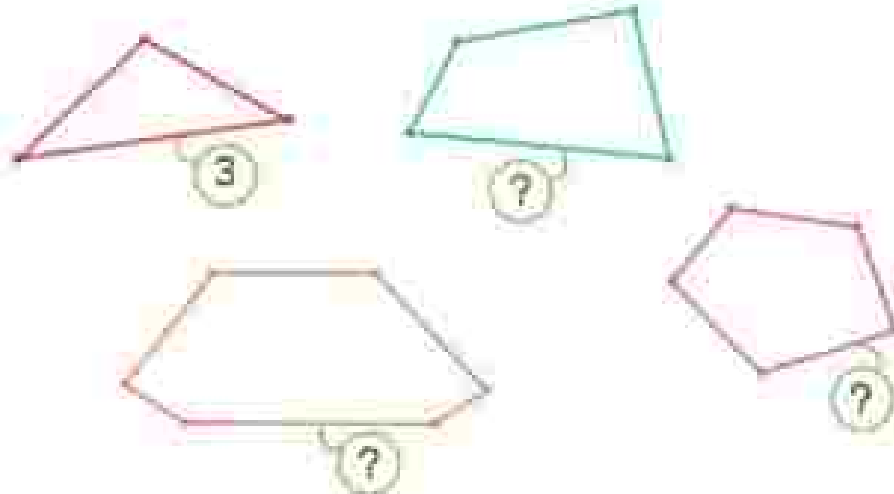
B

Đoạn thẳng AB

1 Đọc tên các điểm và các đoạn thẳng trong hình sau:

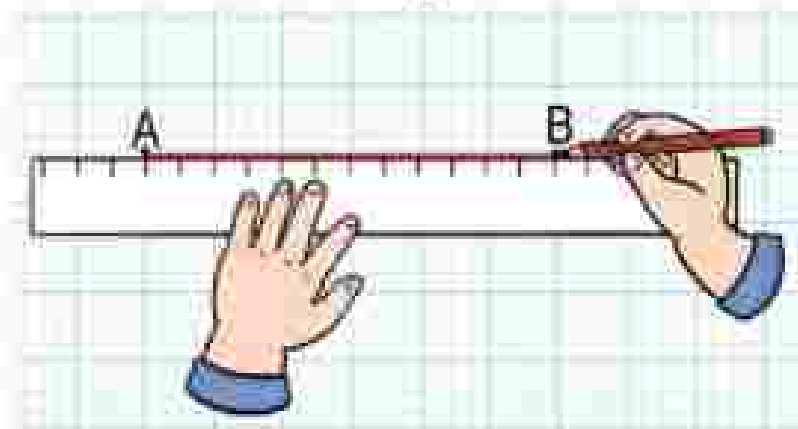


2 Đếm số đoạn thẳng trong mỗi hình sau (theo màu):



**3** Vẽ đoạn thẳng trên giấy kẻ ô li (theo mẫu):

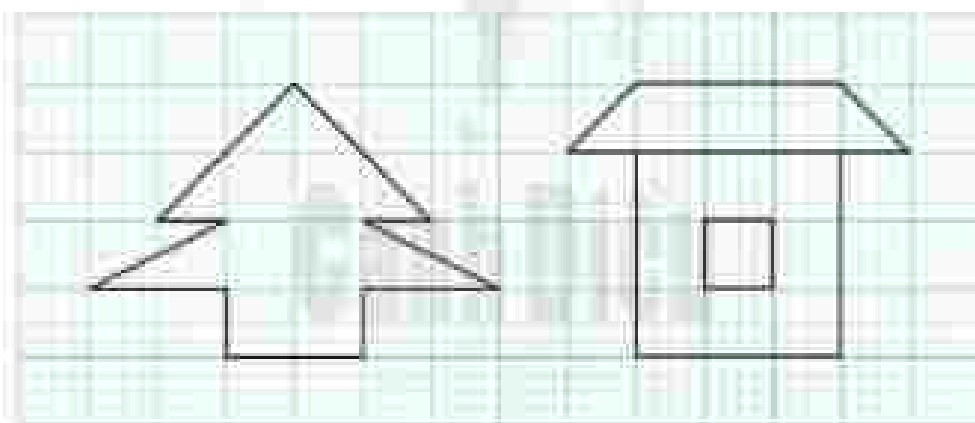
Mẫu: Vẽ đoạn thẳng AB



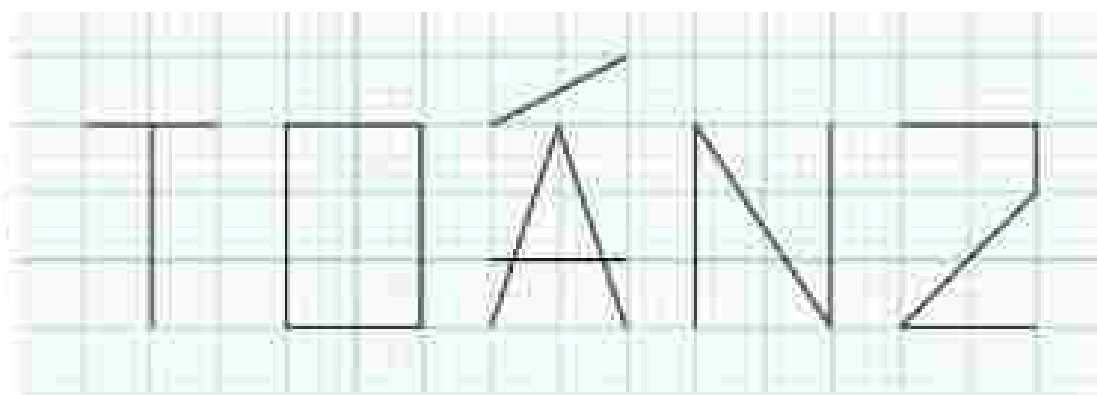
Đánh dấu hai điểm A, B.  
Dùng thước thẳng nối  
hai điểm A và B.



- a) Vẽ đoạn thẳng MN.
- b) Vẽ đoạn thẳng PQ.
- c) Vẽ hình vào vở ô li (theo mẫu):



**4** Bạn Voi thích dùng các đoạn thẳng để tạo hình các chữ cái và số. Em hãy dùng các đoạn thẳng để tạo hình tên của mình.



# ĐƯỜNG THẲNG - ĐƯỜNG CONG ĐƯỜNG GẤP KHÚC



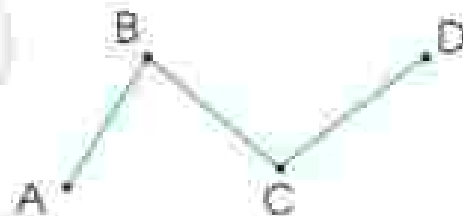
Đường thẳng



Ba điểm A, B, C cùng nằm trên một đường thẳng.

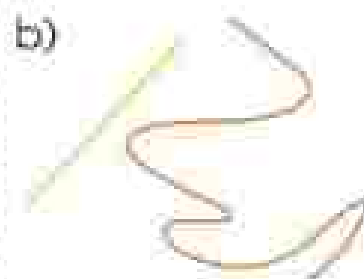
A, B, C là ba điểm thẳng hàng.

Đường cong

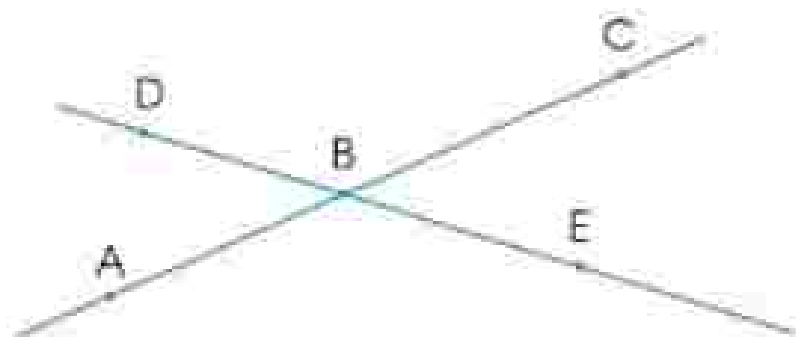


Đường gấp khúc ABCD gồm ba đoạn thẳng AB, BC và CD.

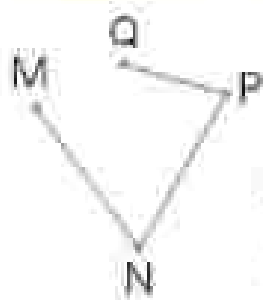
**1** Chỉ ra đường thẳng, đường cong trong mỗi hình sau:



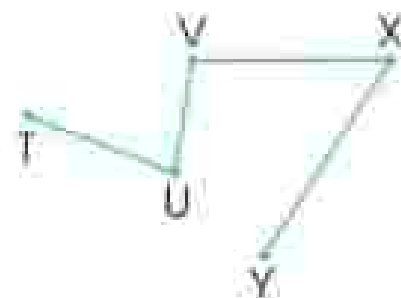
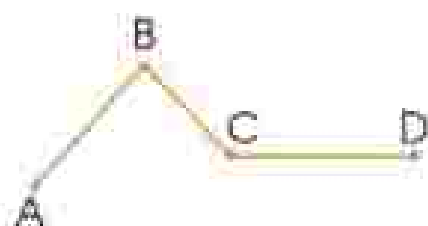
2) Nêu tên ba điểm thẳng hàng:



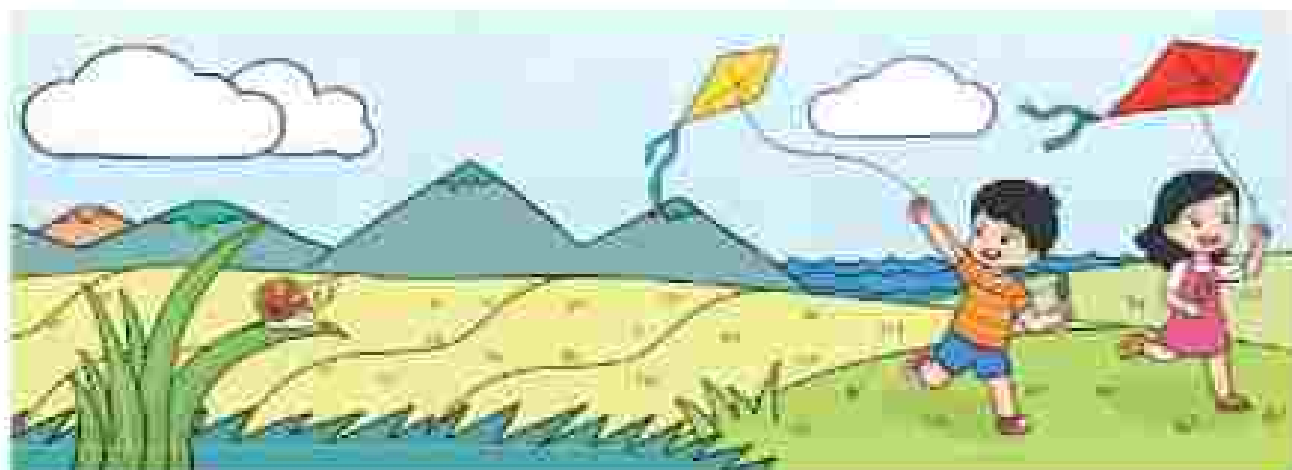
3) Nêu tên các đoạn thẳng của mỗi đường gấp khúc dưới đây:



Đường gấp khúc MNPQ gồm ba đoạn thẳng MN, NP và PQ.



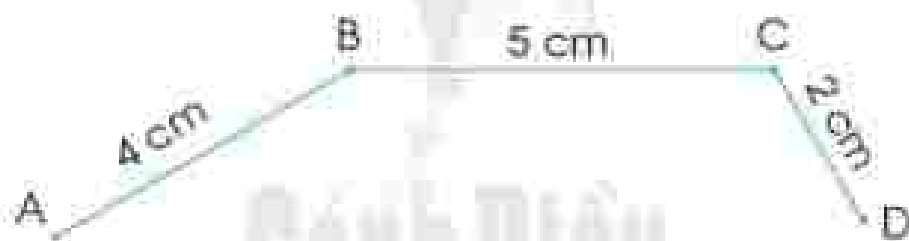
4) Tìm hai hình ảnh tạo bởi đường cong, đường gấp khúc trong bức tranh sau:



# ĐỘ DÀI ĐOẠN THẲNG ĐỘ DÀI ĐƯỜNG GẤP KHÚC



Đo dài đoạn thẳng AK là 5 cm, ta viết  $AK = 5 \text{ cm}$ .



Đo dài đường gấp khúc ABCD là tổng độ dài các đoạn thẳng AB, BC, CD.

$$4 \text{ cm} + 5 \text{ cm} + 2 \text{ cm} = 11 \text{ cm}$$

- 1 Dùng thước kẻ vạch chia xăng-ti-mét đo độ dài của các đoạn thẳng sau và nêu kết quả:



$TE = \boxed{?} \text{ cm}$



$OA = \boxed{?} \text{ cm}$



$KM = \boxed{?} \text{ cm}$

- 2) a) Tính độ dài của đường gấp khúc ABCD trong hình sau:



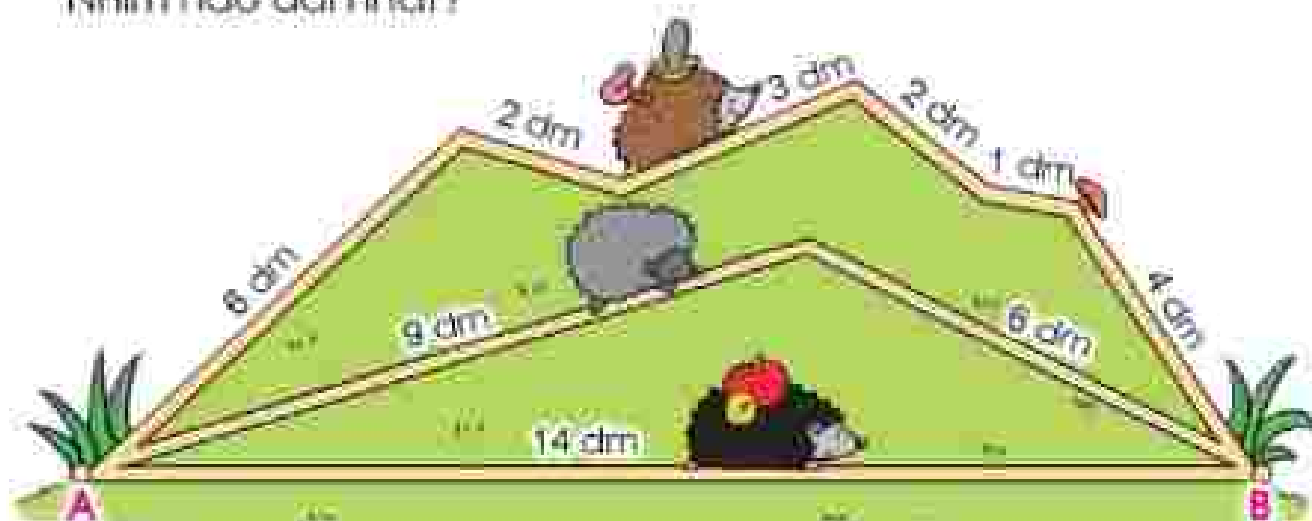
- b) Đo độ dài các đoạn thẳng rồi tính độ dài của đường gấp khúc MNO PQ sau:



- 3) a) Vẽ đoạn thẳng AB có độ dài 4 cm.  
b) Vẽ đoạn thẳng CD có độ dài 7 cm.


- 4) Xem tranh rồi trả lời các câu hỏi:

- a) Mỗi bạn Nhím đi quãng đường từ A đến B dài bao nhiêu đề-xi-mét?  
b) Đường đi của bạn Nhím nào ngắn nhất? Đường đi của bạn Nhím nào dài nhất?

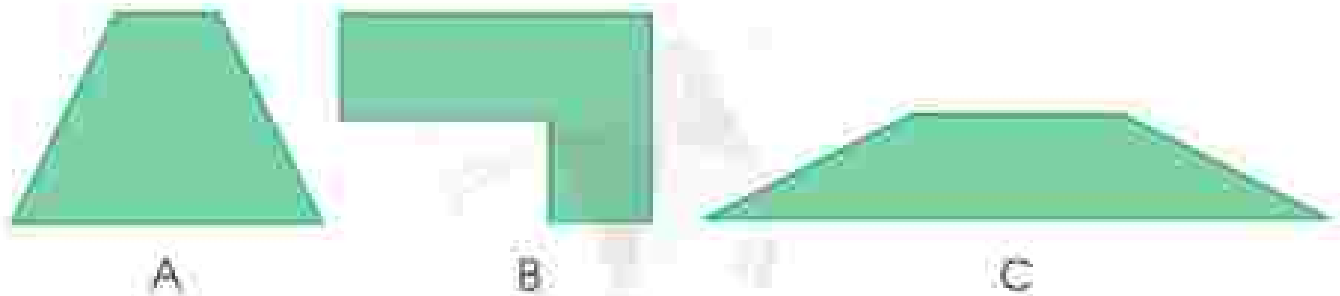


# THỰC HÀNH LẬP GHÉP, XÉP HÌNH PHẪNG

1 a) Dùng các mảnh bìa sau:

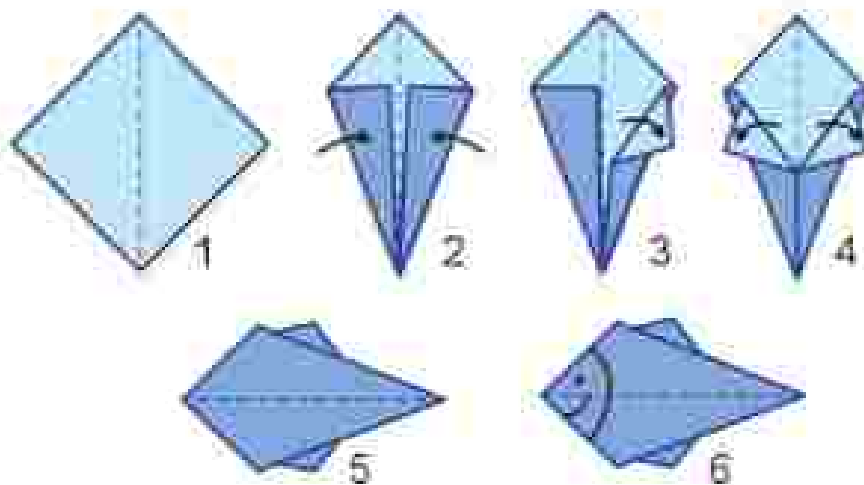


Lắp ghép thành các hình:




b) Trong các hình ghép được, hình nào là hình tứ giác?

2 Em hãy gấp các tờ giấy màu theo hướng dẫn ở hình sau để tạo thành hình những con cá nhiều màu sắc:



- 3) a) Chuẩn bị một tờ giấy hình vuông rồi gấp và cắt tờ giấy theo hướng dẫn ở hình bên để tạo thành 8 hình tam giác.



- b) Sử dụng các hình tam giác đó để tạo hình:



- 4) Sử dụng các đồ vật có sẵn để xếp hình tứ giác.



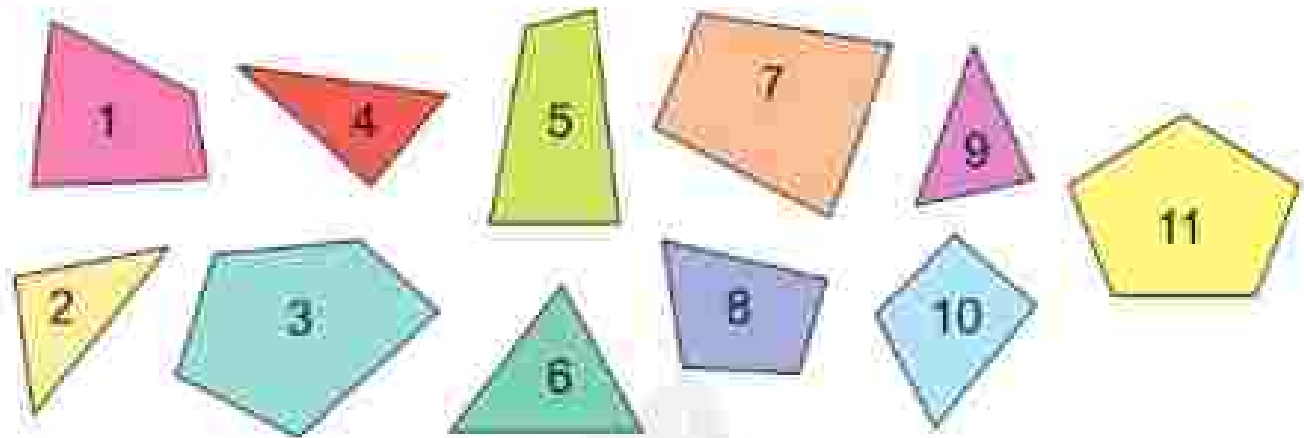
- 5) a) Tìm hình còn thiếu trong mỗi ô trống:




- b) Tương tự như trên, em hãy xếp và đồ bạn tìm hình còn thiếu.

# LUYỆN TẬP CHUNG

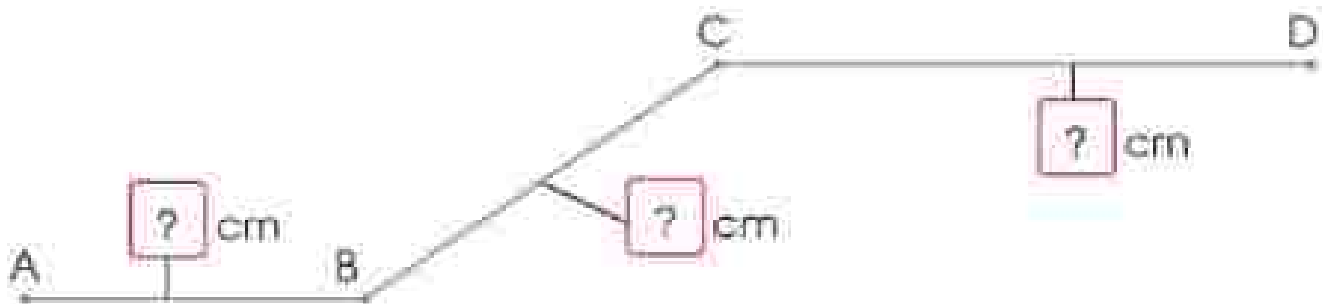
1 Chỉ ra các mảnh bìa hình tứ giác trong hình sau:



2 Nêu tên ba điểm thẳng hàng trong hình sau (dùng thước thẳng để kiểm tra):

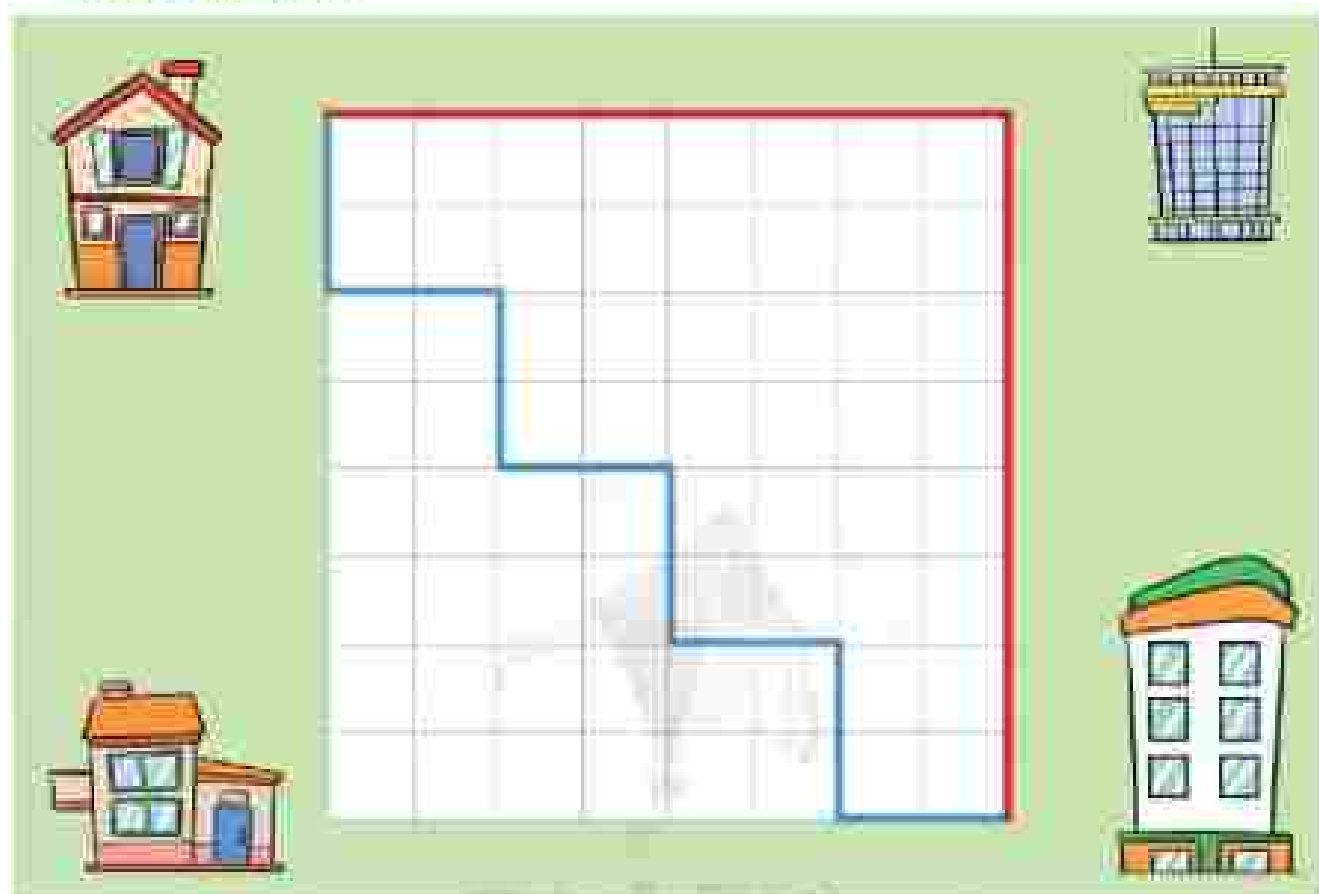


3 a) Đo và tính độ dài đường gấp khúc ABCD sau:




b) Vẽ đoạn thẳng MN có độ dài 8 cm.


- 4 So sánh độ dài quãng đường màu xanh và quãng đường màu đỏ trong hình sau:



- 5 Ba mảnh bìa màu xanh dưới đây không thể ghép được hình nào trong các hình sau?



1



2



3

# ÔN TẬP VỀ PHÉP CỘNG, PHÉP TRỪ TRONG PHẠM VI 20

1 Tính nhẩm:

$$\begin{array}{l} 9 + 3 \\ 3 + 9 \\ 12 - 9 \\ 12 - 3 \end{array}$$

$$\begin{array}{l} 7 + 8 \\ 8 + 7 \\ 15 - 7 \\ 15 - 8 \end{array}$$

$$\begin{array}{l} 6 + 5 \\ 5 + 6 \\ 11 - 6 \\ 11 - 5 \end{array}$$

2 Chọn kết quả đúng với mỗi phép tính:

$9 + 4$        $3 + 8$        $11 + 2$   
 $17 - 9$        $13$        $8$        $11$        $19 - 8$   
 $7 + 6$        $12 - 4$        $7 + 4$        $16 - 8$

3



$8 + 8$     $8 + 5$        $9 + 7$     $7 + 9$   
 $14 - 6$     $14 - 7$        $17 - 8$     $18 - 7$

4

a) Tính:

$$\begin{array}{l} 6 + 6 + 4 = \boxed{?} \text{ A} \quad 16 - 8 + 8 = \boxed{?} \text{ A} \\ 7 + 7 + 3 = \boxed{?} \text{ S} \quad 18 - 9 - 2 = \boxed{?} \text{ L} \\ 5 + 9 - 4 = \boxed{?} \text{ O} \end{array}$$




b) Xếp các chữ cái tương ứng với kết quả phép tính ở câu a vào các ô  $\boxed{?}$ . em sẽ biết thêm tên một loài động vật trong sách đồ Việt Nam.

17	16	10	7	16
?	?	?	?	?

- 5) a) Dũng nhặt được 16 vỏ sò, Huyền nhặt được ít hơn Dũng 7 vỏ sò. Hỏi Huyền nhặt được bao nhiêu vỏ sò?



- b) Dũng và Huyền dùng các vỏ sò ghép thành hai bức tranh. Bức tranh thứ nhất gồm 8 vỏ sò, bức tranh thứ hai nhiều hơn bức tranh thứ nhất 9 vỏ sò. Hỏi bức tranh thứ hai được ghép từ bao nhiêu vỏ sò?





5

a) Mẹ Nam cần hái 95 quả xoài để biếu họ hàng, mẹ đã hái được 36 quả. Hỏi mẹ còn phải hái bao nhiêu quả xoài?




b) Vườn nhà Thanh có 27 cây nhãn, số cây vải nhiều hơn số cây nhãn 18 cây. Hỏi vườn nhà Thanh có bao nhiêu cây vải?

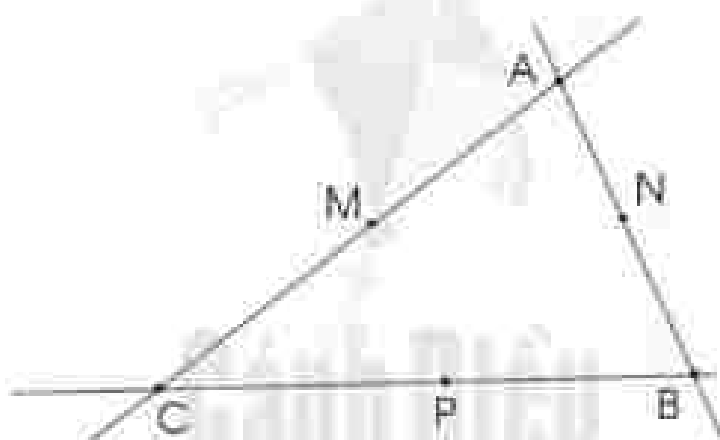


# ÔN TẬP VỀ HÌNH HỌC VÀ ĐO LƯỜNG

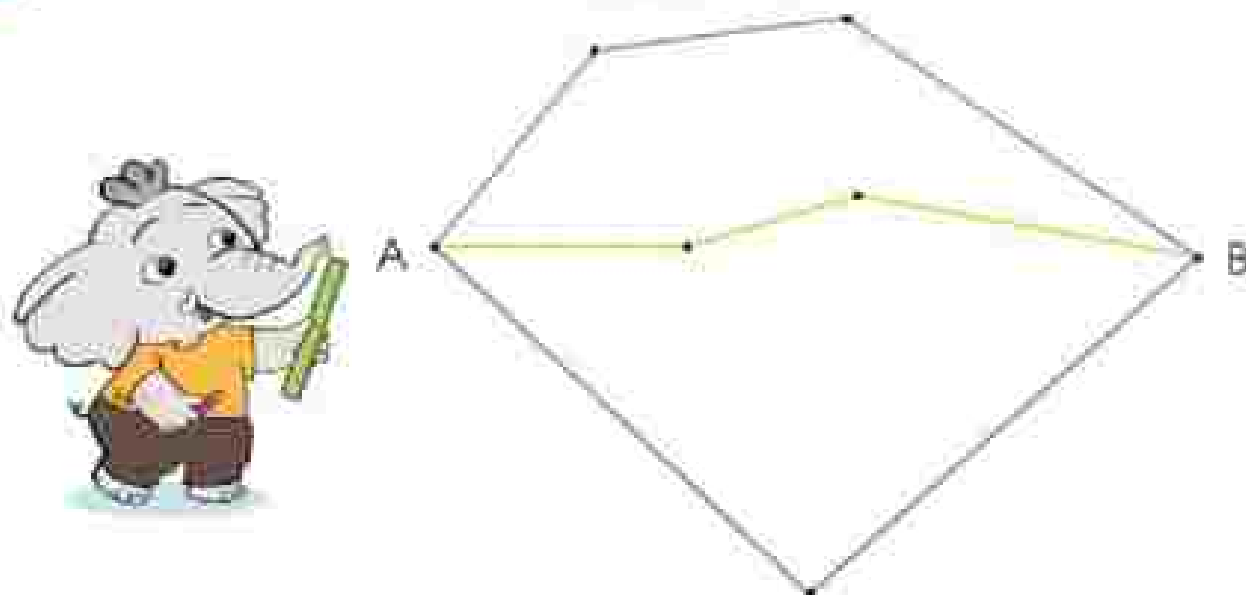
- 1 a) Chỉ ra đường thẳng, đường gấp khúc, đường cong trong hình sau:



- b) Nêu tên ba điểm thẳng hàng trong hình sau:



- 2 a) Đo và tính độ dài các đường gấp khúc từ A đến B sau:



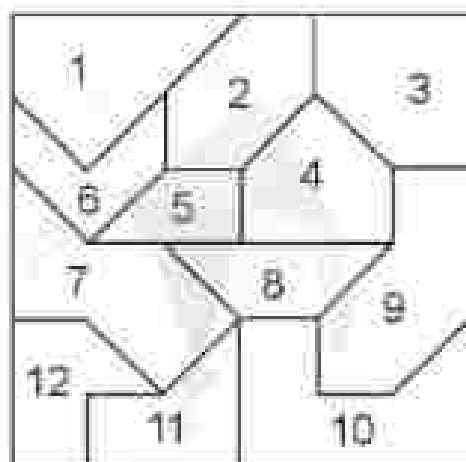
- b) Vẽ đoạn thẳng có độ dài 1 dm.

3) Bình sữa to có 23 l sữa, bình sữa nhỏ có ít hơn bình sữa to 8 l sữa. Hỏi bình sữa nhỏ có bao nhiêu lít sữa?


4) a) Mỗi mảnh bìa sau có dạng hình gì?



b) Hai mảnh bìa trên lớp được vào vị trí nào trong hình vuông sau?



5) Quan sát cân nặng của các loại hàng bán trong siêu thị:



a) Loại hàng nào nặng nhất? Loại hàng nào nhẹ nhất?

b) Chị Lan đã mua tất cả 10 kg. Theo em, chị Lan có thể đã mua những loại hàng nào?

# ÔN TẬP

1 a) Mỗi chữ cái ở vạch chỉ số nào trên tia số dưới đây?



b) Số ?

Số liền trước	Số đã cho	Số liền sau
?	40	?
?	59	?
?	81	?

2 a) Tính nhẩm:

$8 + 4$

$15 - 6$

$9 + 2$

$6 + 8$

$4 + 8$

$15 - 8$

$11 - 9$

$14 - 8$

b) Đặt tính rồi tính:

$48 + 27$

$25 + 75$

$80 - 7$

$100 - 8$

$82 - 55$

$50 - 39$

$91 + 9$

$100 - 28$

c) Tính:


$42 + 18 - 10$

$60 - 13 + 23$


3 Khi tham gia ngày hội "Bảo vệ môi trường từ các sản phẩm tái chế", khối lớp Hai làm được 24 sản phẩm, khối lớp Ba làm được nhiều hơn khối lớp Hai 16 sản phẩm. Hỏi khối lớp Ba làm được bao nhiêu sản phẩm?



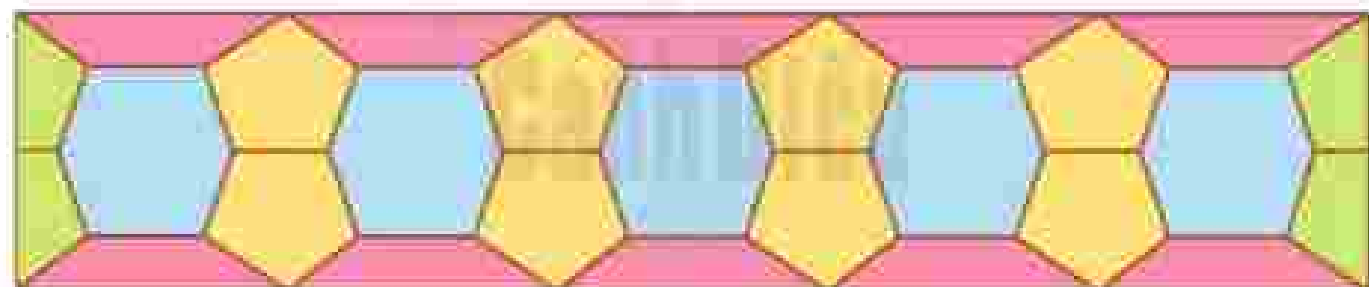
- 4 a) Chỉ ra đường thẳng, đường cong, đường gấp khúc trong hình sau:



- b) Mỗi đường gấp khúc sau gồm mấy đoạn thẳng?



- c) Hình sau có bao nhiêu mảnh ghép hình tứ giác?




- 5 Em hãy gợi ý giúp chị Hà chọn những can để đựng vừa đủ 8 l mật ong:




6 a) Nêu tên các con vật từ nhẹ nhất đến nặng nhất.



85 kg



46 kg



63 kg



54 kg

b) Tính tổng cân nặng của con dê và con hươu.

c) Tính hiệu cân nặng của con vật nặng nhất và con vật nhẹ nhất.

7 a) Em hãy ước lượng trong hình sau có khoảng bao nhiêu chiếc chìa khoá:



b) Em hãy đếm số chiếc chìa khoá ở hình trên để kiểm tra lại.



**HỌC VUI  
VUI HỌC**



## EM VUI HỌC TOÁN

- 1** Thực hành: Lần lượt từng bạn trong nhóm dùng cân sức khoẻ để nhận biết cân nặng của mình.




- 2** Thực hành: Mang đến lớp các đồ vật có thể đựng nước.

a) Xếp riêng những đồ vật chứa được ít hơn 1 l nước; chứa được 1 l nước; chứa được nhiều hơn 1 l nước.

b) Dùng bình 1 l để mức nước đổ vào một bình to. Dự đoán xem đổ mấy lần thì đầy bình đó. Thực hành để kiểm tra lại.



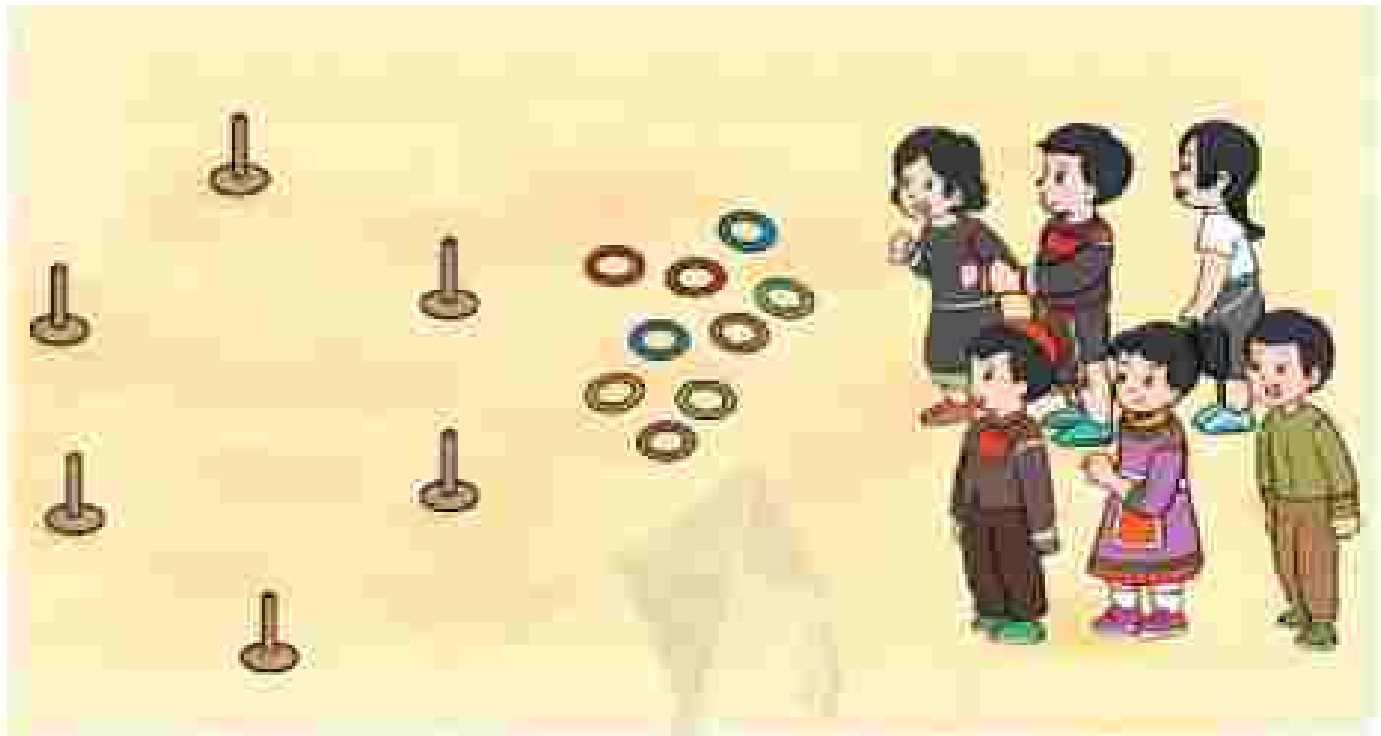
- 3) Hãy sử dụng các đường thẳng, đường cong, đường gấp khúc để tạo hình.



- 4) Hãy cùng nhau dùng dây tạo hình tam giác, hình tứ giác.



5 Tung vòng và chạy theo đường tạo thành hình tứ giác.



## BẢNG TRA CỬU TỬ NGỮ

Từ ngữ	Trang	Từ ngữ	Trang
<b>B</b>		<b>K</b>	
ba điểm thẳng hàng	86	ki-lô-gam (kg)	76
bài toán liên quan đến phép cộng	42	<b>L</b>	
bài toán liên quan đến phép trừ	43	lít (l)	78
bài toán về ít hơn	47	<b>P</b>	
bài toán về nhiều hơn	46	phép cộng (có nhớ)	18, 20, 58, 60
bảng cộng (có nhớ) trong phạm vi 20	24	phép cộng (không nhớ)	8, 17
bảng trừ (có nhớ) trong phạm vi 20	36	phép trừ (có nhớ)	30, 32, 66, 68
<b>C</b>		phép trừ (không nhớ)	8, 29
các số đến 100	6	<b>S</b>	
chục	6	số bị trừ	15
<b>D</b>		số hạng	14
đề-xi-mét (dm)	12	số liền sau	10
điểm	84	số liền trước	10
đoạn thẳng	84	số trừ	15
đơn vị	6	<b>T</b>	
đường cong	86	tia số	10
đường gấp khúc	86	tổng	14
đường thẳng	86	<b>U</b>	
<b>H</b>		ước lượng theo nhóm chục	7
hiệu	15	<b>V</b>	
hình tứ giác	82	vẽ đoạn thẳng	85, 89

# MỤC LỤC

	Trang		Trang
<b>1</b> Ôn tập lớp 1		<b>2</b> Phép cộng, phép trừ (có nhớ) trong phạm vi 100	
• Phép cộng, phép trừ (có nhớ) trong phạm vi 20	4	• Phép cộng (có nhớ) trong phạm vi 100	56
• Ôn tập các số đến 100	6	• Phép cộng (có nhớ) trong phạm vi 100 (tiếp theo)	60
• Ôn tập về phép cộng, phép trừ (không nhớ) trong phạm vi 100	8	• Luyện tập	62
• Tập số. Số liền trước – Số liền sau	10	• Luyện tập (tiếp theo)	64
• Đề-xi-mét	12	• Phép trừ (có nhớ) trong phạm vi 100	66
• Số hàng – Tổng	14	• Phép trừ (có nhớ) trong phạm vi 100 (tiếp theo)	68
• Số bị trừ – Số trừ – Hiệu	15	• Luyện tập	70
• Luyện tập chung	16	• Luyện tập (tiếp theo)	72
• Luyện tập phép cộng (không nhớ) trong phạm vi 20	17	• Luyện tập chung	74
• Phép cộng (có nhớ) trong phạm vi 20	18	• Kí-tô-gam	76
• Phép cộng (có nhớ) trong phạm vi 20 (tiếp theo)	20	• Lit	78
• Luyện tập	22	• Luyện tập chung	80
• Bảng cộng (có nhớ) trong phạm vi 20	24	• Hình tứ giác	82
• Luyện tập	26	• Điểm – Đoạn thẳng	84
• Luyện tập chung	28	• Đường thẳng – Đường cong – Đường gấp khúc	86
• Luyện tập phép trừ (không nhớ) trong phạm vi 20	29	• Độ dài đoạn thẳng – Độ dài đường gấp khúc	88
• Phép trừ (có nhớ) trong phạm vi 20	30	• Thực hành lắp ghép, xếp hình phẳng	90
• Phép trừ (có nhớ) trong phạm vi 20 (tiếp theo)	32	• Luyện tập chung	92
• Luyện tập	34	• Ôn tập về phép cộng, phép trừ trong phạm vi 20	94
• Bảng trừ (có nhớ) trong phạm vi 20	36	• Ôn tập về phép cộng, phép trừ trong phạm vi 100	96
• Luyện tập	38	• Ôn tập về hình học và đo lường	98
• Luyện tập chung	40	• Ôn tập	100
• Bài toán liên quan đến phép cộng, phép trừ	42	• Em vui học toán	103
• Luyện tập	44	• Bảng tra cứu từ ngữ	106
• Bài toán liên quan đến phép cộng, phép trừ (tiếp theo)	46		
• Luyện tập	49		
• Luyện tập chung	50		
• Em ôn lại những gì đã học	52		
• Em vui học toán	54		

## NHÀ XUẤT BẢN ĐẠI HỌC SƯ PHẠM

Địa chỉ: Tầng 6, Tòa nhà số 128 đường Xuân Thủy, quận Cầu Giấy, TP Hà Nội

Điện thoại: 024.37547735

Email: nxb@huc.edu.vn | Website: www.nxbdhsp.edu.vn

Chịu trách nhiệm xuất bản:

Giám đốc: NGUYỄN HÀ CƯỜNG

Chịu trách nhiệm nội dung:

Tổng biên tập: ĐỖ VIỆT HÙNG

Chịu trách nhiệm tổ chức bản thảo và bản quyền nội dung:

CÔNG TY ĐẦU TƯ XUẤT BẢN - THIẾT BỊ GIÁO DỤC VIỆT NAM

Chủ tịch Hội đồng Quản trị kiêm Tổng Giám đốc: NGUYỄN NGỌC TRẦN AN

Biên tập:

TÀ THỊ ANH - NGUYỄN THỊ NGÂN

Thiết kế sách và minh họa:

TRẦN THỊ THU AN - LƯU QUẾ DƯƠNG

Trình bày bìa:

TRẦN TIẾN LAM

Sửa bản in:

LÊ TRUNG DŨNG - NGUYỄN THỊ THẢO HOA

Trang sách có sử dụng tư liệu, hình ảnh của một số tác giả. Trân trọng cảm ơn.

## TOÁN 2 - Tập một

Mã số: \_\_\_\_\_

ISBN: 978-604-\_\_\_\_\_-\_\_\_\_\_

In: \_\_\_\_\_ cuốn, khổ 19 x 26,5 cm, tại \_\_\_\_\_

Địa chỉ: \_\_\_\_\_

Cơ sở in: \_\_\_\_\_

Số xác nhận đăng ký xuất bản: \_\_\_\_\_/CXBIPH/\_\_\_\_\_/ĐHSP

Quyết định xuất bản số: \_\_\_\_\_/QĐ-NXBĐHSP ngày \_\_\_\_\_

In xong và nộp lưu chiểu \_\_\_\_\_ năm \_\_\_\_\_

Mang cuộc sống vào bài học  
Đưa bài học vào cuộc sống



*T*ập 2 là cuốn sách giáo khoa dành cho học sinh lớp 2 được biên soạn theo *Chương trình Giáo dục phổ thông 2018*.

Sách được biên soạn đáp ứng yêu cầu phát triển phẩm chất và năng lực của học sinh. Các hoạt động học tập được tổ chức theo tiến trình từ dễ đến khó, hướng đến việc khám phá, phát hiện, thực hành, vận dụng giải quyết vấn đề trong thực tiễn, phù hợp với trình độ nhận thức của học sinh. Sách được trình bày hấp dẫn, khơi gợi sự tò mò, kích thích hứng thú, tạo dựng niềm tin trong học tập môn Toán ở học sinh.

Sách là sản phẩm tâm huyết của tập thể tác giả – những nhà giáo, nhà khoa học giàu kinh nghiệm trong giáo dục tiểu học.



SỬ DỤNG  
TEM CHỐNG GIẢ

1. Dùng điện thoại quét mã QR hoặc dùng trình duyệt web để truy cập vào trang web: <https://canhdiem.monkey.edu.vn>

2. Vào mục hướng dẫn ([canhdiem.monkey.edu.vn/huong-dan/](https://canhdiem.monkey.edu.vn/huong-dan/)) để xem hướng dẫn kiểm tra sách giả và kích hoạt sử dụng học liệu điện tử.

ISBN 978-604-54-7602-4



9 786045 476024